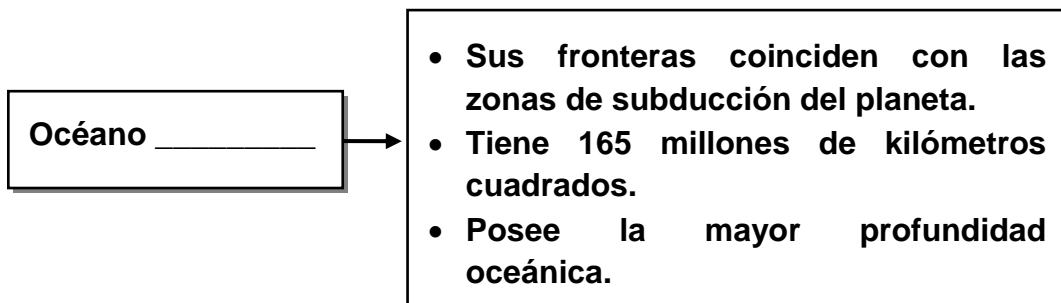


Los siguientes ítems de selección única tienen el fin de mostrar algunos de los formatos que usted puede encontrar en las pruebas nacionales de certificación en Educación Abierta.

## SELECCIÓN

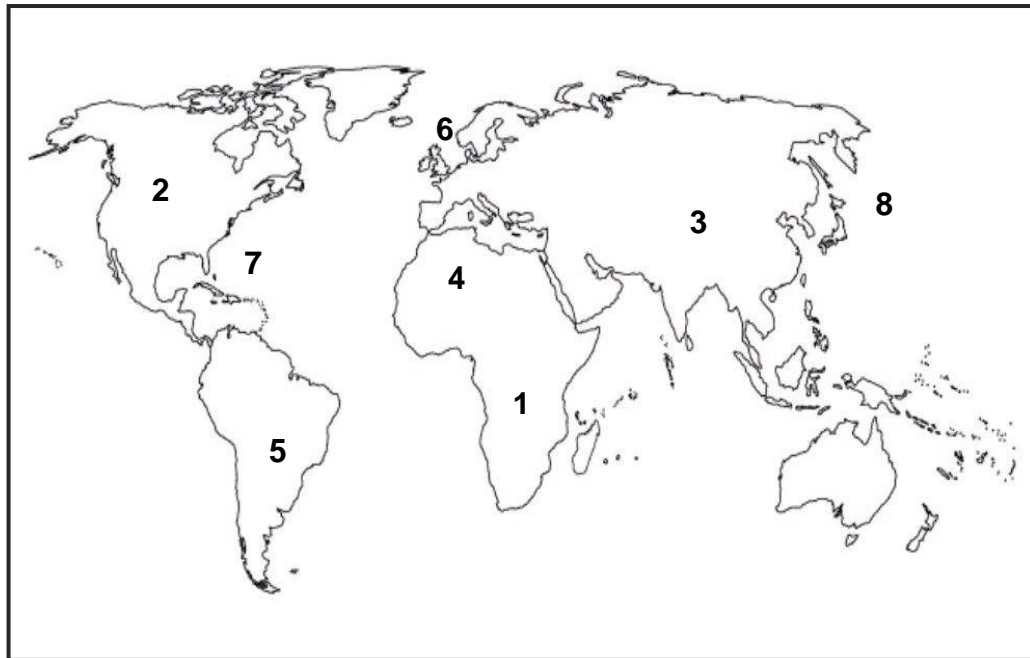
1) Lea el siguiente esquema:



¿Con cuál opción se completa correctamente el esquema anterior?

- A) Índico
- B) Pacífico
- C) Atlántico
- D) Glacial Ártico

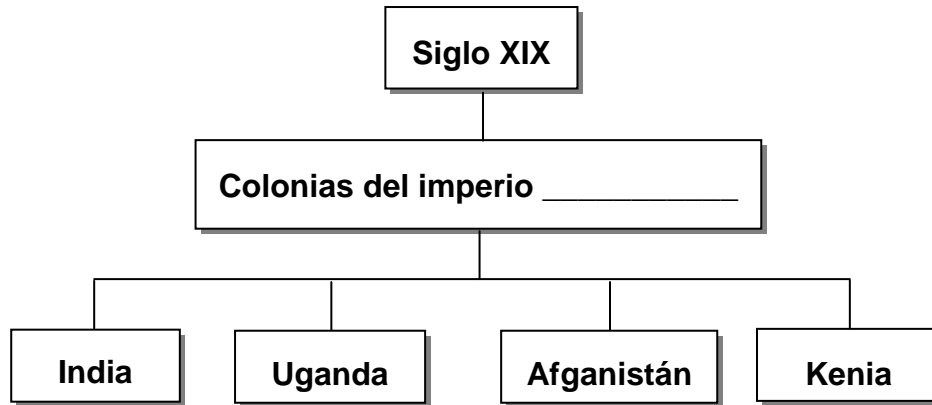
2) Observe el siguiente croquis del planeta:



De acuerdo con el croquis anterior, la ubicación del continente asiático y el mar del Norte se identifican respectivamente con los números

- A) 1 y 2
- B) 3 y 6
- C) 4 y 7
- D) 5 y 8

3) Lea el siguiente esquema:



¿Con cuál opción se completa correctamente el esquema anterior?

- A) Francés
- B) Británico
- C) Holandés
- D) Portugués

4) Lea las siguientes causas:

- |  |
|--|
| <b>1. El principio de autodeterminación de los pueblos.</b>  |
| <b>2. El sentimiento de superioridad racial desarrollado en Europa.</b>                                  |
| <b>3. La necesidad de buscar mercados para vender productos industriales.</b>                            |
| <b>4. Los movimientos nacionalistas de los colonos que se manifestaron contra la cultura occidental.</b> |

¿Con cuáles números de los anteriores se identifican dos causas del proceso descolonizador que se dio en Asia y África en la segunda mitad del siglo XX?

- A) 1 y 2
- B) 1 y 4
- C) 2 y 3
- D) 3 y 4

5) Lea el siguiente texto:

**En los países de América Latina donde hubo reformismo o pluralismo y con el objetivo de promover la industrialización, la seguridad social y la educación a través de la intervención de las autoridades gubernamentales, se dejó de lado al Estado \_\_\_\_\_.**

**Adaptado de Estudios Sociales 1, MEP-ICER**

¿Con cuál opción se completa correctamente el texto anterior?

- A) liberal
- B) interventor
- C) benefactor
- D) globalizador

6) Lea el siguiente texto:

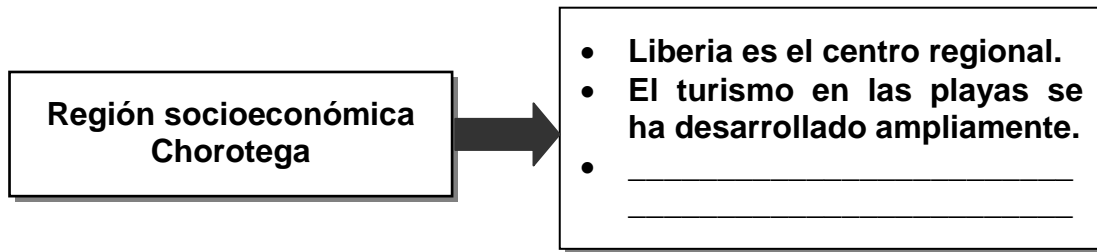
**Las condiciones naturales de esta tierra: suelos fértiles, temperaturas moderadas, altitudes y lluvias, permiten el cultivo de pastos para la ganadería. Se cultivan fresas, flores, plantas ornamentales para la exportación y café. Además existen lugares de menor altitud llamados pasos.**

**Adaptado de Estudios Sociales 2, MEP-ICER**

El texto anterior, identifica actividades económicas desarrolladas en las faldas de la cordillera

- A) de Tilarán.
- B) de Talamanca.
- C) Volcánica Central.
- D) Volcánica de Guanacaste.

7) Lea la siguiente información:



¿Con cuál opción se completa correctamente el esquema anterior?

- A) La principal actividad económica es el cultivo de fresas.
- B) Corresponde a la zona de mayor desarrollo industrial del país.
- C) La agricultura de plantación de banano es la actividad principal.
- D) Entre las actividades económicas importantes están la agricultura de granos básicos y la ganadería extensiva.

8) Lea la siguiente información:



¿Con cuál opción se completa correctamente la información anterior?

- A) ganadería de leche, cultivo de granos básicos, algodón y caña de azúcar.
- B) ganadería de doble propósito, de leche, cultivos de café, trigo y flores.
- C) ganadería de engorde, cultivos de banano, cacao y palma africana.
- D) industria, comercio, cultivos de hortalizas y legumbres.

- 9) Una de las causas de la Guerra Civil de 1948 en Costa Rica, fue provocada porque el
- A) Centro para el Estudio de los Problemas Nacionales apoyó al partido Comunista.
  - B) Tribunal Electoral declaró provisionalmente a Rafael Ángel Calderón Guardia como presidente.
  - C) presidente Teodoro Picado Michalski rechazó la candidatura de José Figueres Ferrer.
  - D) Congreso anuló el resultado de las elecciones del 8 de febrero de 1948.
- 10) Lea el siguiente texto:

**Las estadísticas señalan la situación de desventaja en la que se encuentran las mujeres en el mercado laboral. En Costa Rica, a pesar de mayores niveles de educación de las mujeres, las tasas de empleo femenino son bajas, la brecha salarial, la segmentación y segregación del mercado laboral continúan siendo un hecho y el desempleo femenino sobrepasa al desempleo masculino.**

**Adaptado de <http://www.pnud.or.cr>**

El texto anterior identifica un desafío que enfrenta la sociedad costarricense en materia de

- A) equidad.
- B) educación.
- C) corrupción.
- D) seguridad ciudadana