



MINISTERIO DE  
EDUCACIÓN PÚBLICA

GOBIERNO  
DE COSTA RICA

**DGEC**  
Dirección de Gestión  
y Evaluación de la Calidad

PROGRAMA DE EDUCACIÓN DIVERSIFICADA A DISTANCIA  
CONVENIO MEP-ICER

# PRÁCTICA EDAD 02

## ESTUDIOS SOCIALES

2024



## SELECCIÓN ÚNICA

60 ÍTEMS

1) Lea la siguiente información:

1. Es un fenómeno planetario basado en la comunicación, interdependencia y desarrollo tecnológico.
2. Es predecible, ya que sus resultados pueden ser anticipados por los gobiernos para evitar la pobreza.
3. Prescinde de la reorganización espacial de la producción, al concentrar todos los procesos en los países desarrollados.

¿Cuál número de los anteriores identifica una característica relacionada con el fenómeno de la globalización?

- A) 1
- B) 2
- C) 3


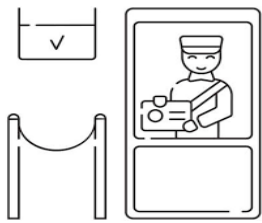

2) ¿Cuál es una manifestación del proceso de globalización en la vida de las personas a nivel mundial?

- A) Utilización de nuevos patrones culturales, costumbres y tradiciones para sustituir todos los elementos locales.
- B) Dependencia de tecnologías comunicativas como: la Internet, el correo electrónico y la telefonía celular, entre otros.
- C) Desplazamiento del uso de las redes sociales, como el Facebook, el Instagram y Twitter, como medio de intercambio del conocimiento.

3) ¿Cuál es una posición histórica que trata de explicar el surgimiento de la sociedad globalizada?

- A) La invención de la rueda permitió la migración masiva y el intercambio de nuevas ideas solo entre los primeros pobladores del Medio Oriente.
- B) El fin de las ideologías antagónicas con la construcción del Muro de Berlín y el surgimiento de una sociedad sin diferencias de clase a nivel mundial.
- C) La llegada de los europeos al continente americano, lo que provocó una imposición cultural, un flujo constante de tecnologías, ideologías, capitales y de personas.

4) Lea la siguiente información:

1	2	3
		
Creación del Internet.	Creación de barreras arancelarias.	El desarrollo inmobiliario.

¿Cuál número de los anteriores identifica un elemento que los historiadores contemplan como precursor en el surgimiento de la sociedad globalizada?

- A) 1
- B) 2
- C) 3



5) Lea los siguientes aspectos:

1. Compra la totalidad de materias primas que utiliza en los procesos de industrialización.
2. Se caracteriza por el desarrollo de un intercambio comercial de naturaleza intrarregional.
3. Todos sus productos se intercambian solo en los mercados internos.

¿Cuál número de los anteriores identifica un aspecto de la Unión Europea como espacio de producción mundial?

- A) 1
- B) 2
- C) 3

6) Lea la siguiente información:

Países con mayor producción industrial a nivel mundial	
País	Porcentaje
China	28,47
Estados Unidos de América	16
Japón	7,23
Alemania	5,78
Corea del Sur	3,29

Recuperado de <https://magnet.xataka.com/en-diez-minutos/quien-fabrica-mundo-paises-mayor-produccion-industrial-mapa>

De acuerdo con la información anterior, los principales flujos de producción industrial

- A) están localizados mayormente en Asia.
- B) son liderados por todos los países europeos.
- C) siguen concentrados en el continente americano.



- 7) Actualmente en Costa Rica han proliferado una serie de centros comerciales a los que también se les denomina «*malls*», estos lugares incluyen locales comerciales, restaurantes, salas de cine y otros servicios que se caracterizan, entre otros aspectos, por
- A) crear un equilibrio en la instalación de negocios tanto nacionales como extranjeros.
  - B) dar prioridad a los negocios y empresas nacionales para la venta de bienes y servicios.
  - C) ofrecer productos de diferentes países y compañías a nivel mundial.
- 8) Lea la siguiente información:

En la India:

- La venta al por menor sobresale en su economía como uno de los sectores más importantes.
- El sector terciario ocupa el decimoquinto lugar del mundo y emplea el 23% de la fuerza laboral.
- Las industrias más dinámicas son las de tecnologías de la información y de tercerización o subcontratación.
- Otras actividades importantes son los servicios financieros, turismo, educación, salud, transporte, servicios públicos y privados, hotelería y comunicaciones.

Según la información anterior, la India se especializa en

- A) la producción industrial y el ensamblaje de productos automotrices.
- B) la venta de servicios y actividades relacionadas con las telecomunicaciones.
- C) el cultivo de productos de primera necesidad e importación de materias primas.

9) Lea la siguiente información:

- «Intenta conducir sus actividades en una escala internacional, como quien cree que no existen fronteras nacionales, sobre la base de una estrategia común dirigida por el centro corporativo».

*Raymond Vernon*

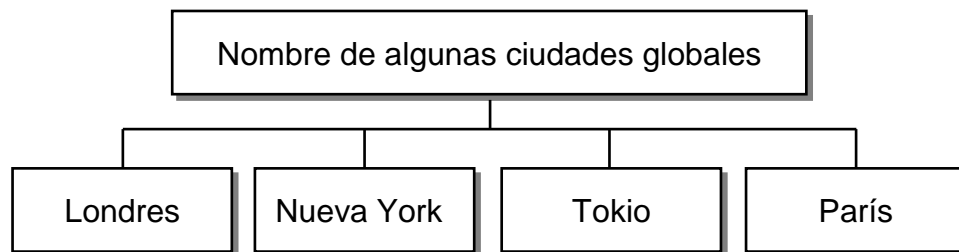
- Se articulan en un proceso integrado y sus políticas son determinadas por el centro corporativo en términos de las decisiones relacionadas con la producción, la localización de plantas, las formas de los productos, la comercialización y el financiamiento.

*Departamento de Comercio de los Estados Unidos de América*

La información anterior está relacionada con el rol que cumplen, en la actualidad, las

- A) las cooperativas.
- B) asociaciones solidaristas.
- C) las empresas transnacionales.

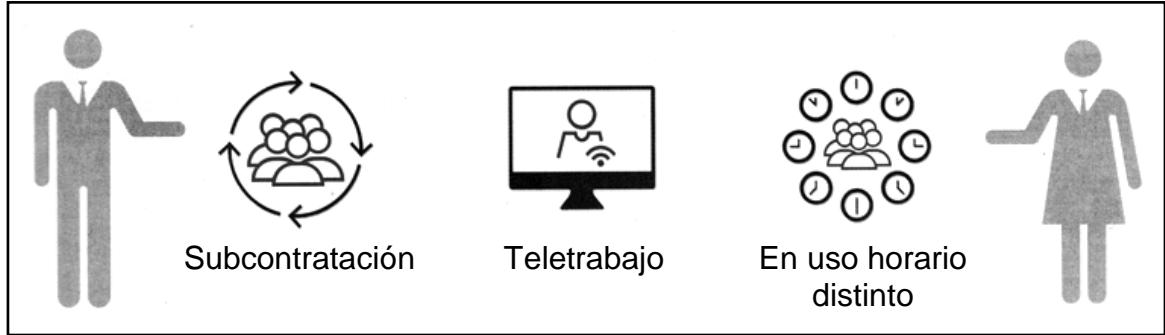
10) Lea el siguiente esquema:



¿Cuál es un elemento que comparten en común las ciudades del esquema anterior?

- A) Carencia de profesionales con preparación en el área de tecnología.
- B) Excelente conectividad a Internet e infraestructura vial en buenas condiciones.
- C) Balanzas de pago desfavorables y dependencia del desarrollo de actividades agroalimentarias.

11) Observe la siguiente imagen:



De acuerdo con la imagen anterior, los avances tecnológicos han contribuido

- A) con la ejecución presencial de labores por parte de los trabajadores en las maquilas.
- B) en los procesos de contratación de personas a nivel mundial, para que desempeñen funciones solo en el sector primario de la economía.
- C) para que los empleados realicen las tareas en un lugar diferente a la oficina mediante el uso de técnicas de la información o comunicación (TIC).



12) Lea la siguiente información:

Geografía de las telecomunicaciones Ranking de cantones por servicios de telefonía móvil e internet			
Posición	Red móvil 2G	Red móvil 3G	Internet
<b>CON MEJORES SERVICIOS</b>			
1	Jiménez	Tibás	Montes de Oca
2	Cartago	Goicoechea	San Pablo de Heredia
3	Oreamuno	Bagaces	Escazú
4	Paraíso	San José	Belén
5	El Guarco	Guatuso	Curridabat
<b>CON DEUDA EN SERVICIOS</b>			
77	Puriscal	San Mateo	Talamanca
78	Poás	Grecia	Guácimo
79	Turrubares	Poás	León Cortés
80	Nandayure	Puriscal	Turrubares
81	Zarcelero	Montes de Oro	Matina
<p>NOTA. El ranking de cantones se establece según la cobertura y la calidad de las redes de telefonía móvil; en Internet se establece a partir del porcentaje de viviendas con enlaces a Internet.</p> <p>FUENTE UCR. Índice de competitividad cantonal 2011-2016</p>			

De acuerdo con la información anterior, el acceso a las telecomunicaciones en Costa Rica

- A) es más favorable a nivel de la Gran Área Metropolitana.
- B) presenta pocas diferencias a nivel cantonal y provincial.
- C) se da con mayor efectividad en los cantones de las zonas costeras.





- 13) En el marco del proceso de globalización, ¿cuál es una condición de desigualdad social a nivel mundial?
- A) Todas las economías del continente africano y del área centroamericana han mostrado una tendencia hacia la tercerización y la subcontratación de servicios.
  - B) Los elevados índices de alfabetización y el bajo crecimiento demográfico predominan en los países subdesarrollados.
  - C) El progreso industrial de los países en desarrollo es escaso y dependen de los capitales extranjeros.
- 14) En relación con la globalización y el acceso a las telecomunicaciones y la informática, ¿cuál es un ejemplo de divergencia cultural de diferentes grupos humanos?
- A) Adopción de prácticas culturales y de consumo propias de las naciones capitalistas, entre ellas, celebraciones como el Halloween.
  - B) Acciones de todos los pueblos sudamericanos que buscan el rescate de las raíces históricas y la revalorización del imperio incaico.
  - C) Los grupos sociales rechazan expresiones culturales e idiomáticas de los países ricos y desarrollados.



15) Lea la siguiente información:

«Los medios masivos dedicados a la difusión de mensajes recreativos e informativos, en la mayoría de las sociedades latinoamericanas, dependen de la producción norteamericana. En la mayoría de los países de América Latina no existe ninguna protección a la edición de productos locales. Ello provoca que la generalidad de lo que pasa por la televisión sea ajeno a nuestra realidad y conduce al desdibujamiento de las identidades nacionales y regionales».

*Recuperado de*  
<file:///C:/Users/UTIC/Downloads/503nTexto%20del%20art%C3%ADculo-1614-1-10-20110804.pdf>

La información anterior permite evaluar la incidencia de los patrones de convergencia cultural en

- A) el fortalecimiento de las identidades locales latinoamericanas.
- B) la homogeneización de costumbres y patrones de consumo entre diversas regiones.
- C) las tendencias para difundir, tanto las manifestaciones culturales de América Anglosajona, como las de América Latina.

16) Lea la siguiente información:

El 24 de agosto del 2015 la Asamblea Legislativa de Costa Rica creó la ley 9305 en la que reforma el artículo 1º de la Constitución Política para que de esa fecha en adelante se leyera:

«Costa Rica es una República democrática, libre, independiente, multiétnica y pluricultural».

De acuerdo con la información anterior, Costa Rica en el marco de la globalización ha realizado esfuerzos desde el punto de vista cultural para

- A) convertirse en un modelo de preservación de la identidad y la cultura a nivel latinoamericano.
- B) resaltar la superioridad cultural de la nación a nivel de la región centroamericana.
- C) reconocer y valorar la riqueza y variedad cultural que existe en el país.

17) ¿Cuál fue una consecuencia de la Segunda Guerra Mundial que repercutió en el ámbito social en Costa Rica?

- A) La desaparición del pensamiento de izquierda y del partido Comunista liderado por Manuel Mora Valverde.
- B) El incremento de los índices de desempleo ocasionó que muchas personas se quedaran sin salario.
- C) La consolidación del patrón oro como nuevo sistema cambiario a nivel mundial.

18) Lea la siguiente información:

Respuestas del Estado costarricense a la crisis del modelo agroexportador
<ul style="list-style-type: none"><li>• Intervención en el control de las divisas, la devaluación, el aumento de los aranceles, así como en las importaciones.</li><li>• Se creó el Instituto del Café para solucionar los roces entre productores y beneficiadores.</li><li>• _____</li></ul>

¿Cuál opción completa correctamente la información anterior?

- A) Fundación del Instituto Mixto de Ayuda Social para eliminar los problemas de pobreza.
- B) Creación de las universidades públicas para formar economistas y asesores financieros.
- C) Fundación del Banco Internacional de Costa Rica BICR, para ofrecer créditos accesibles y diversificar la economía.

19) Comparando las crisis económicas que enfrentó Costa Rica durante la primera mitad del siglo XX y la ocurrida a inicios del siglo XXI (2008), se puede afirmar que estas crisis

- A) evidenciaron la fragilidad del modelo productivo denominado agroexportador.
- B) afectaron a diversos sectores de la sociedad en el ámbito económico y social.
- C) contribuyeron en la implementación y desarrollo de gobiernos intervencionistas.

20) Lea la siguiente información:

Crisis económicas de la primera mitad del siglo XX	Crisis económicas del presente
El comienzo de la Gran Depresión fue muy brusco. En octubre de 1929 la Bolsa de Nueva York se hundió, el crac borró de un plumazo el optimismo del mercado bursátil lo cual causó quiebras, pobreza y desesperanza.	La crisis financiera de 2008 tuvo su origen en el problema de las hipotecas subprime (o de alto riesgo) esta se extendió y afectó no solo, a toda la economía del país norteamericano, sino también a las de otras naciones, de manera principal, a integrantes de la Unión Europea.

De acuerdo con la información anterior se puede establecer sobre el inicio de ambas crisis que

- A) surgieron en economías socialistas debido a la centralización y control de los gobiernos.
- B) se originaron en Estados Unidos de América y afectaron a gran cantidad de países.
- C) su cuna fue en Europa y luego se extendieron al resto del mundo.

21) Lea la siguiente información:

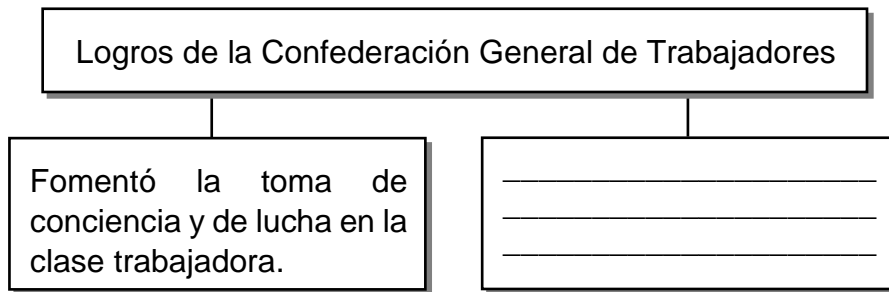
Entre el 9 de agosto y el 16 de setiembre de 1934 se desarrolló la gran huelga de los trabajadores bananeros de la costa Atlántica de Costa Rica. En esa región, los obreros carecían de derechos, estaban desvinculados del resto del país, no tenían protección laboral, ni sistema de salud, por ello iniciaron un proceso de lucha.

En relación con las características de las luchas sociales y políticas de la primera mitad del siglo XX, el texto anterior evidencia

- A) que los enclaves bananeros en América Latina dieron grandes oportunidades laborales poco valoradas por los trabajadores, debido a grandes exigencias por parte de éstos.
- B) la responsabilidad de las potencias mundiales en las economías internas de Centroamérica y en todos los problemas de los trabajadores.
- C) el esfuerzo de los trabajadores por alcanzar una mejor calidad de vida en lo laboral y en lo familiar.



22) Lea el siguiente esquema:



¿Cuál opción completa correctamente el esquema anterior?

- A) Impulsó las políticas de salarios crecientes.
- B) Fortaleció el desarrollo de los movimientos obreros.
- C) Estimuló la aprobación de las reformas sociales de 1940.

23) En el año de 1949, se creó el Tribunal Supremo de Elecciones con el propósito de

- A) establecer restricciones a la ciudadanía, para ejercer el derecho al sufragio como el grado de escolaridad y la capacidad adquisitiva.
- B) velar por el desarrollo de elecciones transparentes, el respeto de la voluntad popular y el fortalecimiento de la democracia.
- C) permitir que toda la población del territorio nacional, participe activamente y pueda emitir el voto.



24) Lea los siguientes aspectos:

1. Derecho al voto femenino.
2. El voto de dos vueltas, en el que los votantes eligen a representantes que son los encargados de escoger al presidente.
3. Introducción de nuevos requisitos para votar, como ser mayor de 21 años y saber leer y escribir.

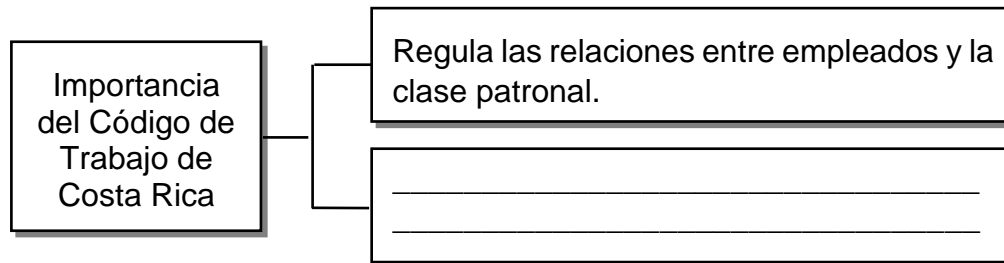
¿Cuál número de los anteriores identifica una reforma electoral durante la primera mitad del siglo XX en Costa Rica?

- A) 1
- B) 2
- C) 3

25) En el marco de la reforma social de la década de 1940, la Caja Costarricense de Seguro Social fue de gran importancia para la sociedad de aquella época porque

- A) estableció y aprobó todas las políticas públicas en materia de salud que se aplican en los centros hospitalarios y clínicas públicas y privadas del país.
- B) autorizó y administró cada uno de los regímenes existentes, obligatorios y voluntarios de pensiones de la clase obrero-patronal.
- C) erradicó todas las enfermedades infectocontagiosas y cardiorrespiratorias en la ciudadanía.

26) Lea el siguiente esquema:



En el marco de la reforma social de la década de 1940, ¿cuál opción completa correctamente el esquema anterior?

- A) Aprueba que los trabajadores deben recibir auxilio de accidentes y cesantía siempre y cuando esté de acuerdo el empleador.
- B) Establece las disposiciones en beneficio de la clase obrera, tales como el derecho a las vacaciones pagadas y el salario mínimo.
- C) Regula que los patronos puedan disfrutar plenamente del derecho a la huelga de labores.

27) Lea la siguiente información:

- Esta institución vino a llenar el vacío dejado por el cierre de la Casa de Enseñanza Santo Tomás en 1888.
- Los procesos de diversificación agrícola y de desarrollo de una industria nacional requerían de profesionales bien preparados. Este centro de formación también dio un marco de mejor preparación académica para los educadores que servirían en las escuelas y colegios que se abrían por todo el país.

La información anterior permite reconocer la importancia que, en el marco de la Reforma Social de la década de 1940, tuvo para Costa Rica la creación de la institución denominada

- A) Escuela Normal Superior.
- B) Universidad de Costa Rica.
- C) Consejo Superior de Educación.



28) Lea la siguiente información:

- El 8 de febrero de 1948 se llevaron a cabo las elecciones, donde concluidas estas Otilio Ulate Blanco obtuvo el 54% de los votos, mientras que Rafael Ángel Calderón Guardia el 44%.
- El 9 de febrero parte de la documentación electoral que estaba en el Colegio Superior de Señoritas, fue consumida por un incendio, por eso el doctor Calderón Guardia solicitó la anulación de las votaciones.
- El Partido Republicano alegó que sus simpatizantes no habían podido votar porque las cédulas no habían sido emitidas por el Tribunal Electoral.

De acuerdo con la información anterior, ¿cuál fue la causa de la Guerra Civil de 1948 en Costa Rica?

- A) Los vicios y anomalías en el desarrollo de los procesos electorales.
- B) La alianza entre el gobierno y el Partido Comunista, bajo el clima de la Guerra Fría.
- C) Los problemas administrativos, culturales y jurídicos presentes en la administración pública.



29) Lea la siguiente información:

#### Consecuencias de la Guerra Civil de 1948

- Se prohibió por muchos años la existencia de partidos de corte socialista en Costa Rica.
- Se eligió una Asamblea Constituyente, que redactó la Constitución de 1949.
- El respeto al sufragio. Otilio Ulate es reconocido como presidente.
- \_\_\_\_\_
- \_\_\_\_\_

¿Cuál opción completa correctamente la información anterior?

- A) Desarrollo de la huelga de brazos caídos que le permitió al pueblo la defensa de la voluntad popular.
- B) Surgimiento de una nueva noción de Estado denominado benefactor, gestor o interventor.
- C) Intervención de las autoridades de gobierno en asuntos electorales.

30) Lea las siguientes afirmaciones:

- Crecimiento de la crisis económica producto de la situación generada por la Segunda Guerra Mundial.
- Organización de la huelga de los Brazos caídos, para exigir garantías electorales y respetar los resultados.
- Descontento por el aumento de la pobreza, el desempleo y los problemas de salud, sobre todo de los sectores populares.

Las afirmaciones anteriores son ejemplo de situaciones que ocurrieron en el país y se relacionan con

- A) el crecimiento de la espiral de violencia de la sociedad costarricense y que condujo a la Guerra de 1948.
- B) el descontento de la población por la concentración de la riqueza en manos de personas extranjeras.
- C) la creación del Tribunal Supremo de Elecciones y de las políticas públicas emprendidas para el manejo de la inflación.



31) ¿Cuál fue un impacto que tuvo en la vida cotidiana de los costarricenses la Guerra Civil de 1948?

- A) La discriminación y la violencia física en contra de los militantes del partido Conservador.
- B) Las divisiones familiares se dieron porque algunos miembros apoyaron el pensamiento de los diferentes bandos.
- C) Las huelgas lideradas por los grupos dominantes se originaron en contra de la supresión de las conquistas sociales en favor de los trabajadores.

32) A partir de la segunda mitad del siglo XX (1950), la nueva noción del Estado costarricense transformó la estructura económica. Uno de los cambios fue la nacionalización bancaria con el objetivo de

- A) promover el desarrollo social y el progreso material.
- B) modernizar el sistema de recaudación del pago de impuestos y tributos fiscales.
- C) descentralizar las funciones que brindan a la población las instituciones públicas

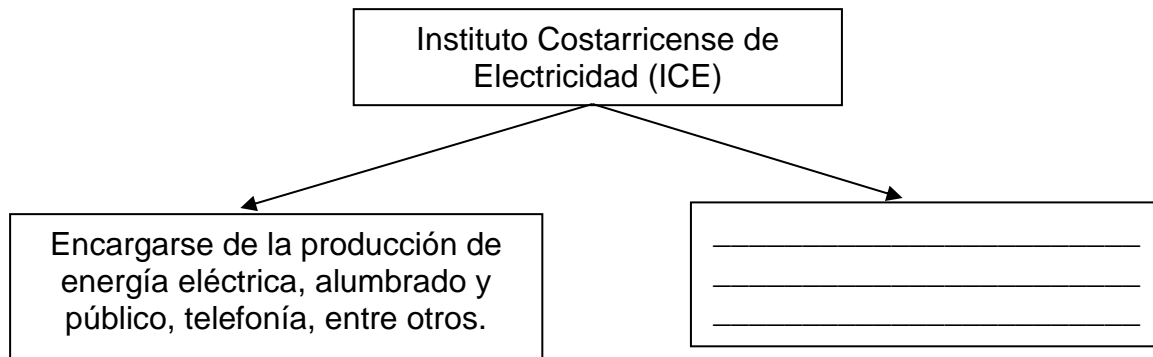
33) Lea la siguiente información:

Su principal tarea es promover la capacitación y formación profesional de las personas en todos los sectores de la economía, para impulsar el desarrollo y contribuir al mejoramiento de las condiciones de vida y de trabajo de la población, mediante acciones de capacitar para certificar y acreditar para el trabajo productivo, sostenible, equitativo, de alta calidad y competitividad.

La información anterior permite reconocer la importancia de la creación del Instituto Nacional de Aprendizaje en Costa Rica durante la segunda mitad del siglo XX para

- A) profesionalizar a toda la población económicamente activa.
- B) ofrecer diversas alternativas de formación laboral a la población.
- C) capacitar la mano de obra costarricense para que se promocióne a nivel internacional.

34) Lea el siguiente esquema:



¿Cuál opción completa correctamente el esquema anterior?

- A) Encargarse solo de las comunicaciones vía satélite y de la protección de las cuencas lacustres.
- B) Procurar la utilización racional de los recursos naturales y terminar con la explotación destructiva e indiscriminada de estos.
- C) Resolver el problema de la falta de energía eólica en Centroamérica de manera solidaria, para lo cual planea, dirige, ejecuta y controla un plan regional destinado a dicho fin.



35) Lea las siguientes afirmaciones:

- Participación del país en el Mercado Común Centroamericano, zona de intercambio económico regional.
- Ampliación de la oferta educativa técnica profesional en función de las necesidades del nuevo modelo económico.
- Migraciones del campo a la ciudad, propiciadas por la oferta laboral en los sectores urbanos, así como la búsqueda de los mejores servicios.

Las afirmaciones anteriores contienen algunas transformaciones producidas en Costa Rica entre 1950 y 1980 y se refieren a la implementación del modelo

- A) monocultivista.
- B) agroexportador.
- C) de sustitución de importaciones.

36) El Estado Costarricense, desde el Estado Gestor (1950-1980), ha sido promotor y garante de la educación como instrumento facilitador de la generación de riqueza y

- A) de una movilidad social ascendente que favoreció la consolidación de una clase media.
- B) la erradicación del analfabetismo y el acceso gratuito de toda la población a la enseñanza universitaria.
- C) el desarrollo de un modelo social que logró cerrar las brechas por ingreso económico entre las zonas urbanas y rurales.



37) Lea el siguiente texto:

Al finalizar la década de 1970 se presentó en Costa Rica un aumento considerable de organizaciones agrarias, la movilización de diversos sectores campesinos y la presión ante las instituciones estatales en procura de reivindicaciones concretas, tales como:

- Disfrute del seguro social
- Solicitudes de adjudicación o tomas de tierras baldías
- \_\_\_\_\_

¿Cuál opción completa correctamente el texto anterior?

- A) Acceso a créditos justos, oportunos y de largo plazo
- B) Eliminación de las tasas de crédito para el sector agrícola
- C) Distribución gratuita de insumos y herramientas de trabajo

38) Considere la siguiente información:

Es un grupo organizado de personas dentro de una comunidad que busca realizar todo tipo de acciones para mejorar las condiciones sociales, económicas, culturales y ambientales del área en que convive.

De acuerdo con la información anterior, se establece que las Asociaciones de Desarrollo Integral como organizaciones locales

- A) ofrecen medidas integrales a la falta de fuentes de empleo de los miembros de la comunidad.
- B) brindan subsidios económicos a todas las personas en condición de pobreza del cantón.
- C) buscan soluciones a los problemas cotidianos que afectan a los vecinos a nivel local.



- 39) ¿Cuál fue una de las causas que incidió en el agotamiento del modelo de diversificación productiva e industrialización sustitutiva puesto en práctica en Costa Rica, entre 1950-1980?
- A) Los intereses de los créditos que se otorgaron a las grandes empresas y a los productores aumentaron desproporcionalmente.
  - B) El aumento de la deuda estatal, situación que ocasionó una balanza de pago desfavorable y un repunte del déficit fiscal.
  - C) El crecimiento en los procesos de modernización del agro, mediante la inyección de capital nacional.
- 40) El modelo de diversificación productiva y la industrialización sustitutiva en Costa Rica comenzaron a mostrar señales de agotamiento a inicios de los años de 1970 debido a que
- A) el café y el banano fueron eliminados dentro de la oferta de productos para la exportación.
  - B) se dejaron de adquirir productos manufacturados de los principales países industrializados del mundo.
  - C) se seguía dependiendo del capital extranjero y de los precios y cuotas que imponían los principales compradores de los productos nacionales.



41) Considere el siguiente texto:

Después de diez años de silencio obligados se me permite ocupar un micrófono. Posterior a la Guerra Civil de 1948 se nos ha calumniado y no hemos podido defendernos. Han sido deformados y adulterados nuestros actos y no se nos ha permitido explicarlos. En nombre de la libertad hemos sido privados de libertad. Hoy, por primera vez en diez años, se nos permite defendernos desde una estación radiodifusora.

*Adaptado de Estudios Sociales 11°Publicaciones Porras*

En el marco de la Guerra Fría, el texto anterior explica parte de la lucha liderada por Manuel Mora Valverde, en favor de la agrupación política llamada Partido

- A) Comunista.
- B) Conservador.
- C) Frente Nacional.

42) Considere el siguiente texto:

En Costa Rica, para las elecciones de 1953 y 1958, los partidos de izquierda no tuvieron participación política en las elecciones. Esta tendencia anticomunista después de la Guerra Civil de 1948, se refuerza con la estrategia de los grupos poderosos para contrarrestar a sus enemigos mediante la difamación, las calumnias y los ataques discursivos, como parte de una lucha ideológica, entre otros aspectos.

*Parafraseo*

El texto anterior evidencia parte del contexto político que vivió la sociedad costarricense en el marco de la

- A) Revolución sandinista.
- B) Revolución rusa.
- C) Guerra Fría.

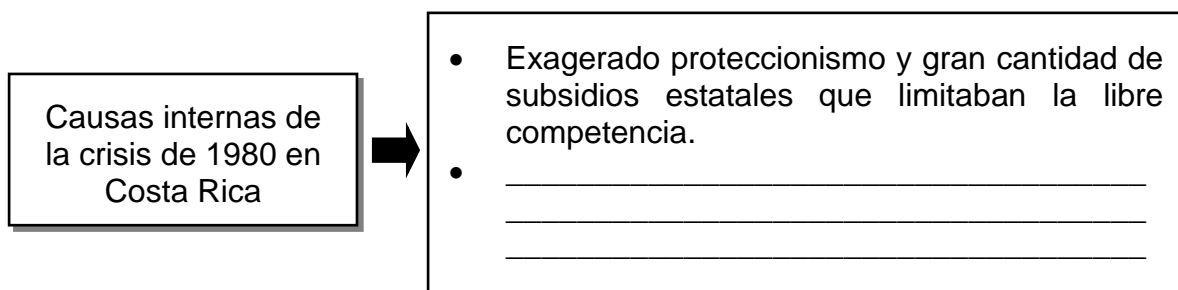
43) Lea los siguientes aspectos:

1. El aumento de los precios de los bienes y servicios importados.
2. El fortalecimiento del comercio con las economías centroamericanas.
3. La disminución en los precios de los hidrocarburos y sus derivados.

¿Cuál número de los anteriores identifica una causa externa de la crisis de 1980 en Costa Rica?

- A) 1
- B) 2
- C) 3

44) Lea el siguiente esquema:

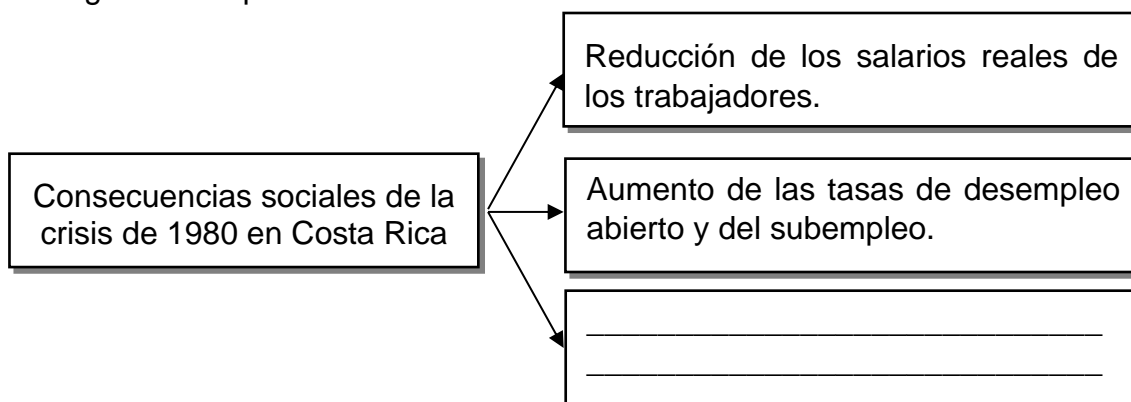


¿Cuál opción completa correctamente el esquema anterior?

- A) Crecimiento del aparato estatal por la concentración del capital, el empleo y el aumento de pensiones a cargo del Estado.
- B) Conflictos políticos en toda Centroamérica que impulsaron el deterioro del comercio con las economías de la región.
- C) Recesión mundial provocada por el aumento de los precios en los productos agrícolas.



45) Lea el siguiente esquema:



¿Cuál opción completa correctamente el esquema anterior?

- A) Deterioro de la balanza de pagos.
- B) Creciente producción industrial.
- C) Escasez de productos básicos.

46) A partir de 1980, Costa Rica entró en un periodo de crisis económica que tuvo diversas consecuencias para la calidad de vida de la población. Por ejemplo, en el sector salud se deterioraron algunos servicios debidos

- A) a la reducción de los gastos en los programas sociales.
- B) al aumento acelerado de la población en la región Central.
- C) al cierre de los Equipos Básicos de Atención Integral en Salud EBAIS, en las zonas rurales.

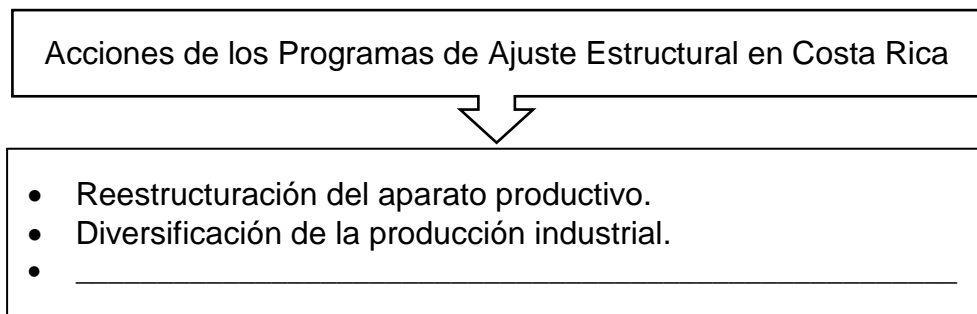
47) Lea los siguientes aspectos:

- |   |
|---|
| 1. El Ajuste Estructural supone esencialmente una amplia apertura de la economía del país mercado internacional |
| 2. Las medidas tomadas solucionaron todos los problemas del mercado interno, así como los problemas sociales.   |
| 3. Los Programas de Ajuste Estructural le asignan una mayor intervención al Estado en temas de materia social.  |

¿Cuál número de los anteriores se relaciona con una implementación de los Programas de Ajuste Estructural en Costa Rica?

- A) 1  
B) 2  
C) 3

48) Lea la información del siguiente esquema:



¿Cuál opción completa correctamente el esquema anterior?

- A) Modernización de todo el aparato educativo para la formación de profesionales en las áreas científicas y tecnológicas.
- B) Reconversión de la banca, privatizando todas las entidades que habían pasado a manos del Estado.
- C) Promoción de exportaciones no tradicionales a mercados fuera de la región centroamericana.



- 49) Costa Rica ante la crisis de 1980 y en respuesta al modelo de promoción de exportaciones, permitió
- A) diversificar la producción y ampliar los intercambios comerciales a nivel internacional.
  - B) aprobar tratados comerciales con cada uno de los países del orbe.
  - C) aumentar el proteccionismo arancelario, financiero y bursátil.
- 50) El modelo económico de promoción de las exportaciones, se estableció en la década de 1980 en Costa Rica, lo que ocasionó la
- A) ampliación de las actividades industriales con el objetivo de no depender del sector secundario.
  - B) extensión de la frontera agrícola para aumentar la producción de café y banano en todo el territorio nacional.
  - C) disminución de la dependencia del cultivo de productos tradicionales para lograr el autobastecimiento de alimentos básicos.
- 51) ¿Cuál fue una manifestación ciudadana frente al ajuste estructural a partir de la década de 1980?
- A) Malestar por la construcción de viviendas con proyección social.
  - B) Descontento por el proceso de nacionalización de la banca estatal.
  - C) Oposición por la venta de los activos de la Corporación Costarricense de Desarrollo (CODESA).



52) Lea el siguiente texto:

«El ICE es el Instituto Costarricense de Electricidad, organismo de carácter estatal encargado de todo lo que se relaciona con la generación, distribución eléctrica y las telecomunicaciones en Costa Rica. El «Combo ICE» fueron unas leyes tramitadas conjuntamente que preveían liberalizar parcialmente la generación eléctrica y las telecomunicaciones en este país. Tras haber sido aprobado en primer debate por la Asamblea Legislativa el 20 de marzo del 2000, dio lugar a numerosas manifestaciones ciudadanas en oposición a la misma».

*Recuperado de <https://www.redalyc.org/pdf/308/30804205.pdf>*

El texto anterior identifica una respuesta ciudadana de los costarricenses ante

- A) los Programas de Ajuste Estructural que se empezaron a implementar a partir de 1980.
- B) el interés de los empleados públicos de fortalecer las principales instituciones públicas del país.
- C) la necesidad que plantearon los movimientos obreros de liberalizar algunos de los servicios esenciales del país para modernizarlos.

53) En el marco de la crisis de la década de 1980, uno de los principales cambios ocurridos en la institucionalidad de Costa Rica con los Programas de Ajuste Estructural lo constituyó

- A) la eliminación del presupuesto de educación superior para destinarlo a los programas de alfabetización rural.
- B) el alza de impuestos a las compañías extranjeras instaladas en el país para aumentar el ingreso público.
- C) la movilidad laboral voluntaria y la disminución de la planilla del Estado.



54) Lea los siguientes enunciados:

1. Establecimiento del teletrabajo como medida alternativa para disminuir los índices de desempleo en la función pública y privada.
2. Aumento gradual de los salarios de la clase trabajadora, situación que favoreció el aumento de su capacidad adquisitiva.
3. Incentivo de la modernización de las industrias y eliminación del proteccionismo estatal.

¿Cuál número de los anteriores identifica un cambios ocasionado en la institucionalidad costarricense a partir de la crisis de la década de 1980?

- A) 1
- B) 2
- C) 3

55) En relación con la vida política de la sociedad costarricense, ¿cuál fue un aspecto relacionado con el auge del bipartidismo?

- A) El predominio de los partidos con pensamiento socialista y liberal que se rotaban el mando del Poder Ejecutivo.
- B) La alternancia en el poder de las fuerzas antagónicas que gobernaron después de la Guerra Civil de 1948.
- C) El control de la mayor cantidad de ministerios e instituciones autónomas del gobierno.


56) Lea la siguiente información:

1. Escándalos de corrupción política.
2. Desaparición de la ideología social demócrata.
3. Fortalecimiento de la ideología socialcristiana.

¿Cuál número de los anteriores identifica una causa de la crisis del bipartidismo en Costa Rica?

- A) 1
- B) 2
- C) 3

57) Observe la siguiente imagen:



En la imagen anterior se identifica la desigualdad como uno de los desafíos que actualmente enfrenta la sociedad costarricense. ¿Cuál es una alternativa que permitiría darle solución ha dicho desafío?

- A) Velar porque las poblaciones en estado de riesgo disfruten de mejores oportunidades socioeconómicas y acceso a los servicios esenciales.
- B) Brindar subsidios económicos a todos los grupos familiares de las zonas rurales, sin distinción del nivel de escolaridad.
- C) Garantizar el acceso a la educación como un derecho universal que permita una movilidad social descendente.



- 58) En la actualidad, uno de los retos de la sociedad costarricense es el desarrollo sostenible. Una acción que se puede implementar para lograrlo consiste en
- A) aumentar la huella de carbono y de los residuos para que se adapten a las necesidades medioambientales en todo el territorio.
  - B) fomentar, mediante la educación, el uso de recursos y de fuentes alternativas que reduzcan las emisiones de gases.
  - C) erradicar el desarrollo de las actividades industriales en los parques industriales y zonas francas.
- 59) ¿Cuál es la importancia de la libertad de pensamiento para los costarricenses?
- A) Les permite a las personas influir en la toma de decisiones del Poder Judicial.
  - B) Es un derecho de carácter constitucional porque supone un pilar de la democracia.
  - C) Garantiza a la población expresarse o manifestarse sin ningún tipo de restricciones.



60) Lea la siguiente información:



A partir de la información anterior y en el marco de derecho del sistema democrático costarricense, las personas

- A) son responsables de ejercer estos derechos y las consecuencias que puedan generar.
- B) para ejercer tales derechos deben de tener algún tipo de preparación académica.
- C) pueden expresar las ideas que deseen sin ninguna implicación legal.





## SOLUCIONARIO ESTUDIOS SOCIALES— EDAD 02

1	B	21	C	41	A
2	B	22	B	42	C
3	C	23	B	43	A
4	A	24	A	44	A
5	B	25	A	45	C
6	A	26	B	46	A
7	C	27	B	47	A
8	B	28	A	48	C
9	C	29	B	49	A
10	B	30	A	50	C
11	C	31	B	51	C
12	B	32	A	52	A
13	C	33	B	53	C
14	A	34	B	54	C
15	B	35	C	55	B
16	C	36	A	56	A
17	B	37	A	57	A
18	C	38	C	58	B
19	B	39	B	59	B
20	B	40	C	60	A