



MINISTERIO DE  
EDUCACIÓN PÚBLICA

GOBIERNO  
DE COSTA RICA


**DGEC**  
Dirección de Gestión  
y Evaluación de la Calidad

PROGRAMA DE NATURALIZACIÓN  
CONVENIO MEP-ICER

# Práctica para Naturalización



# ESTUDIOS SOCIALES



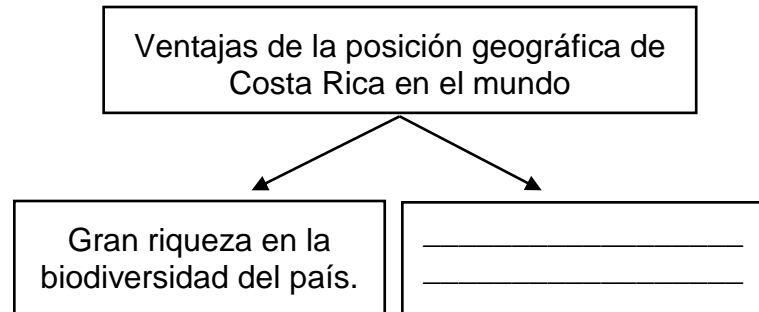


## SELECCIÓN ÚNICA

55 ÍTEMS

- 1) De acuerdo con el meridiano Greenwich o meridiano cero Costa Rica se ubica en el hemisferio
  - A) este.
  - B) norte.
  - C) oeste.
  
- 2) Costa Rica presenta una serie de ventajas naturales, económicas y geopolíticas, situación que se explica por su ubicación en la sección geográfica de América
  - A) Central Ístmica.
  - B) Central Insular.
  - C) del Norte.

3) Lea el siguiente esquema:



¿Cuál opción completa correctamente el esquema anterior?

- A) Garantiza la protección de especies en extinción.
- B) Limitado acceso a los mercados comerciales.
- C) Presencia de variedad climática.

4) Lea los siguientes aspectos:

1	2	3
Río San Juan	Boca del río Sixaola	Confluencia del río Yorkín

¿Cuál número de los anteriores identifica un punto de referencia del límite entre Costa Rica y Nicaragua?

- A) 1
- B) 2
- C) 3



5) Lea la siguiente información:

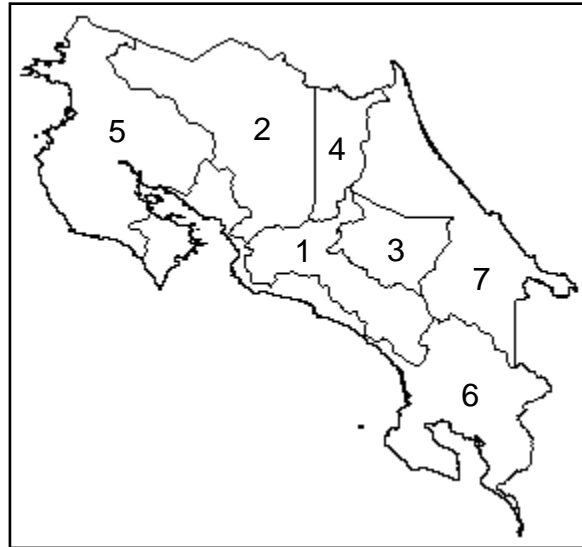
- |  |
|--|
| 1. El límite va desde Punta Burica hasta cerro Pando y en la vertiente del Caribe, desde cerro Pando hasta la desembocadura del río Sixaola. |
| 2. Se estableció mediante un acuerdo del 15 de abril de 1858.  |
| 3. Punta Castilla y bahía Salinas corresponden a elementos naturales que lo definen.   |

¿Cuál número de los anteriores identifica una característica del tratado de límites de Costa Rica con Panamá?

- A) 1
- B) 2
- C) 3

6) Considere el siguiente croquis de Costa Rica:

Provincias de Costa Rica



De acuerdo con el croquis anterior, los números 1 y 7 representan respectivamente a las provincias de

- A) Cartago y Puntarenas.
  - B) Alajuela y Puntarenas.
  - C) San José y Limón.
- 7) Costa Rica se destaca por la presencia del bosque lluvioso en el cantón de Sarapiquí, que pertenece a la división política administrativa de la provincia de
- A) Limón.
  - B) Heredia.
  - C) Alajuela.



8) Lea la siguiente información:

Cantones y cabeceras de «La Ciudad de las Brumas»

Cantones:	Cabeceras:
Paraíso	Paraíso
La Unión	Tres Ríos
Jiménez	Juan Viñas
Turrialba	Turrialba
Alvarado	Pacayas
Oreamuno	San Rafael
El Guarco	Tejar

La información anterior corresponde a los cantones y las cabeceras de la provincia de

- A) San José.
- B) Cartago.
- C) Alajuela.

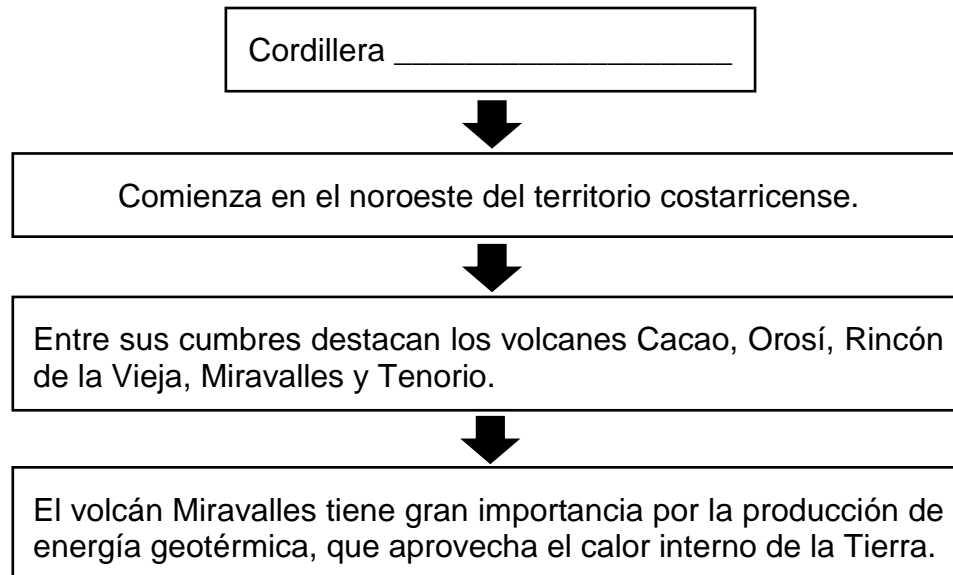
9) Lea la siguiente información:

- Son una sucesión o cadena de montañas unidas entre sí, que se extienden en un territorio determinado.
- Representan zonas plegadas o en fase de plegamiento originadas en zonas situadas en los bordes continentales.
- Se acumula una gran cantidad de sedimentos.

La información anterior se refiere al tipo de relieve denominado

- A) fila.
- B) sierra.
- C) cordillera.

10) Lea el siguiente esquema:




¿Cuál opción completa correctamente el esquema anterior?

- A) volcánica de Guanacaste
- B) volcánica Central
- C) de Tilarán

11) ¿Cuál es el principal factor que modifica el clima en Costa Rica?

- A) La ubicación hemisférica con respecto al meridiano principal.
- B) El ingreso de los vientos alisios al país por la vertiente del Pacífico.
- C) La altitud o posición de las montañas en la parte central del territorio.

12) Lea la siguiente información:

	<ul style="list-style-type: none"><li>• Presenta una larga estación de cinco a seis meses sin precipitaciones.</li><li>• La temperatura promedio es de 27,5°C y las precipitaciones anuales rondan entre los 1500 y 2000 mm.</li><li>• Es una zona muy expuesta a los incendios forestales y las prolongadas sequías.</li></ul>
---	---

La información anterior identifica a la zona climática de Costa Rica denominada

- A) seca del Pacífico.
- B) lluviosa del Pacífico.
- C) húmeda de la depresión tectónica Central.

13) ¿Cuál es el nombre que recibe la cantidad de agua en forma de vapor en la atmosfera?

- A) Presión atmosférica
- B) Temperatura
- C) Humedad





- 14) ¿Cuál es una característica de la costa caribeña de Costa Rica?
- A) Se extiende desde bahía Salinas, hasta punta Burica.
  - B) Es la de menor tamaño, con aproximadamente 215 kilómetros de extensión.
  - C) Presenta un importante número de irregularidades como penínsulas, cabos, puntas y golfos.

- 15) Lea el siguiente texto:

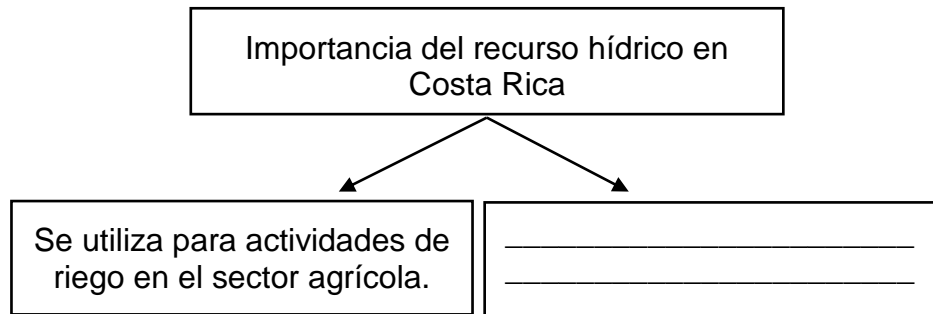
Este puerto caribeño costarricense está a 1500 km de Puerto Príncipe (Haití), a 1700 km de Santo Domingo (República Dominicana) a 1750 Km de La Habana (Cuba) y a 2000 km hasta San Juan (Puerto Rico).

*Adaptado de Estudios Sociales Sikua, MEP-ICER*

El texto anterior hace referencia al puerto denominado

- A) Caldera.
  - B) Golfito.
  - C) Limón.
- 16) ¿Cuál es una característica de los ríos de la subvertiente norte de Costa Rica?
- A) El caudal casi desaparece durante la estación seca.
  - B) Algunos desembocan en el lago de Nicaragua o en el río San Juan.
  - C) Se originan en las faldas de los volcanes Irazú y Turrialba y en las cumbres de la cordillera de Talamanca.

17) Lea el siguiente esquema:



¿Cuál opción completa correctamente el esquema anterior?

- A) Impide el deterioro de las zonas boscosas del país.
- B) Se utiliza en la producción de energía hidroeléctrica.
- C) Es fuente de energía inagotable en las zonas urbanas.

18) Lea la siguiente información:

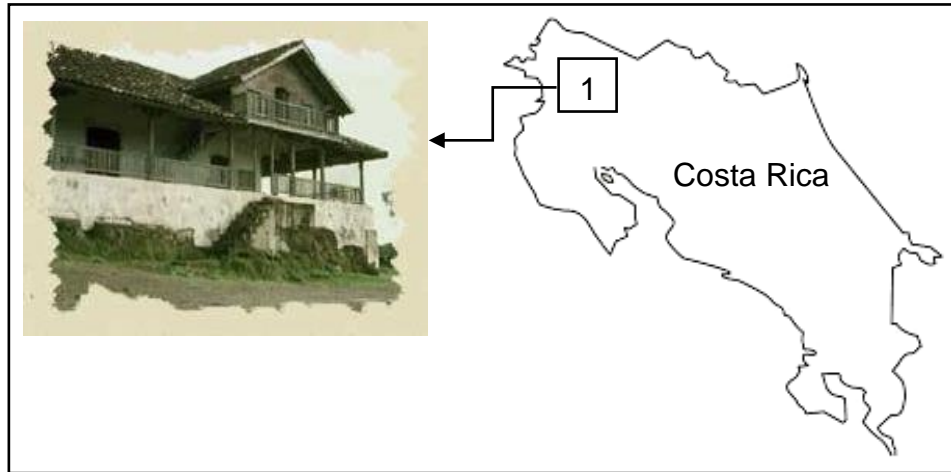
«Área esencialmente inalterada, que contiene ecosistemas, rasgos o especies de flora y fauna extremadamente vulnerables, en la cual los procesos ecológicos han podido seguir su curso natural con un mínimo de interferencia humana, en ella se desarrollan únicamente actividades de investigación y educación».

<http://www.sinac.go.cr/ES/Paginas/PreguntasFrecuentes.aspx>

La información anterior, identifica el concepto de

- A) parque nacional.
- B) reserva biológica.
- C) corredor biológico.


19) Considere la siguiente información:



De acuerdo con la información anterior, ¿cuál parque nacional se identifica con el número 1?

- A) Santa Rosa
- B) Corcovado
- C) Carara

20) Lea la siguiente información:



La información anterior identifica el área cultural indígena

- A) andina.
- B) intermedia.
- C) suramericana.



21) Lea las siguientes características:

- Abarca lo que Este término se propuso para referirse a un espacio cultural que abarca desde la parte meridional de México hasta la Provincia de Guanacaste en Costa Rica, el cual se diferencia de otras regiones por la forma de vida de sus pobladores, su clima y su geografía.
- hoy son los países de México, Belice, Guatemala, Honduras, El Salvador, parte de Nicaragua y Costa Rica.

Las características anteriores corresponden a los pobladores aborígenes, ubicados en el sector de tradición

- A) Intermedia.
- B) suramericana.
- C) mesoamericana.

22) ¿Cuál fue una característica de la región arqueológica Gran Nicoya?

- A) Se dividió en dos subregiones para efectos de estudio; Central-Pacífica y Atlántica.
- B) Se extendió sobre parte de los actuales territorios de Costa Rica y Nicaragua.
- C) Comprendió algunos sectores de Panamá y el sureste de Costa Rica.


23) Lea la siguiente información:

1. Inquietudes de conocimiento, aventura y lucro de los europeos.
2. Interés de los españoles y portugueses de comerciar con los aborígenes.
3. Fervor misionero de los españoles para expandir el protestantismo.

¿Cuál número de los anteriores, identifica una causa que originó el arribo de los europeos a América en el siglo XV?

- A) 1
- B) 2
- C) 3

24) Lea la siguiente información:

Conquistador español _____	
	<ul style="list-style-type: none"><li>• En 1564 trasladó Garcimuñoz al valle de El Guarco y dio el nombre de Cartago.</li><li>• Realizó una expedición a través de la cordillera de Talamanca.</li><li>• Sometió a las poblaciones indígenas por medios pacíficos.</li></ul>

¿Cuál opción completa correctamente la información anterior?

- A) Juan de Caballón
- B) Juan de Castañeda
- C) Juan Vázquez de Coronado

25) Lea la siguiente información:

1. Las expediciones se realizaron desde Panamá y Santo Domingo.
2. Penetraron al interior del territorio y fundaron poblaciones de carácter permanente.
3. León y Granada en Nicaragua fueron los centros desde donde se organizaron las expediciones.

¿Cuál número de los anteriores identifica una característica de la primera fase de la Conquista de Costa Rica?

- A) 1
- B) 2
- C) 3



26) Lea los siguientes aspectos:

1. Abundante mano de obra indígena.
2. Ausencia de grandes reservas de oro y plata.
3. Presencia de grandes plantaciones de café, banano y palma africana.

¿Cuál número de los anteriores identifica una característica general de la provincia de Costa Rica en la época colonial?

- A) 1
- B) 2
- C) 3

27) Lea el siguiente texto:

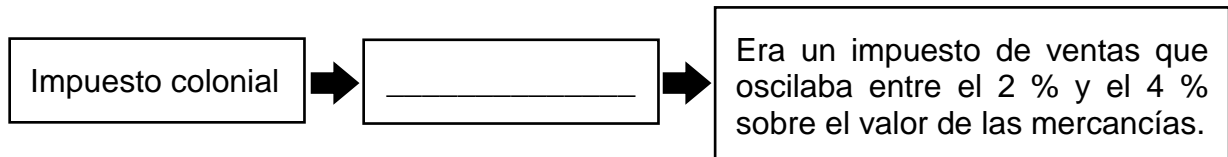
Correspondió al cultivo que se desarrolló en Costa Rica desde el siglo XVII destinado principalmente para la exportación. La producción aumentó en el Valle Central, lo que permitió que la Capitanía General de Guatemala otorgara a Costa Rica, el monopolio de su explotación en el área.

*Estudios Sociales Sikua, MEP-ICER*

El texto anterior identifica características de la actividad económica del período colonial, relacionadas con el cultivo de

- A) trigo.
- B) tabaco.
- C) banano.

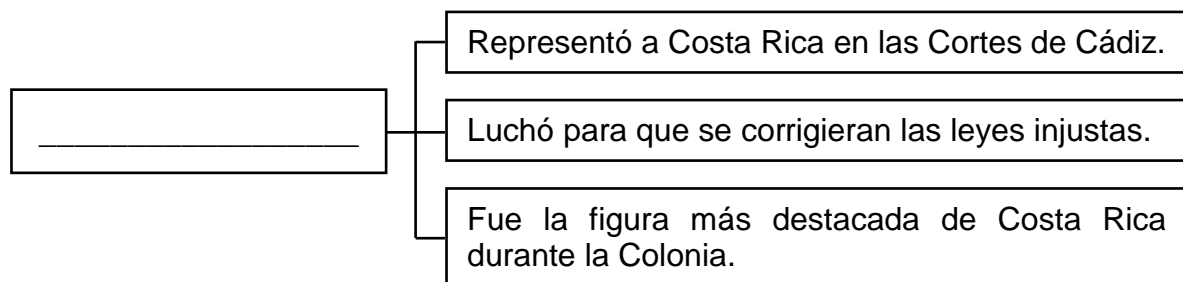
28) Lea el siguiente esquema:



¿Cuál opción completa correctamente el esquema anterior?

- A) Alcabala
- B) Quinto Real
- C) Almojarifazgo

29) Lea el siguiente esquema:



¿Cuál opción completa correctamente el esquema anterior?

- A) Florencio del Castillo
- B) Diego de Artieda y Chirinos
- C) Gonzalo Vásquez de Coronado



30) Lea los siguientes aspectos:

1. Las ideas de la Revolución Francesa proponían el fortalecimiento de las monarquías europeas en el continente americano.
2. Las ideas de la Ilustración alentaban la anexión de las colonias hispanoamericanas al Imperio británico.
3. La invasión de Napoleón Bonaparte a España y el surgimiento del movimiento juntista.

¿Cuál número de los anteriores identifica una causa de la independencia de las provincias de Centroamérica?

- A) 1
- B) 2
- C) 3

31) Lea la siguiente información:

<ul style="list-style-type: none"><li>• Consignó las garantías individuales.</li><li>• Sentó las bases del Estado nacional.</li><li>• Definió a los costarricenses como ciudadanos libres.</li><li>• Definió como forma de gobierno una Junta Superior Gubernativa.</li></ul>
---

La información anterior identifica algunos elementos contemplados en

- A) El Pacto de Concordia.
- B) La Ley de Bases y Garantías.
- C) La Constitución Política de 1870.





32) ¿Cuál fue un beneficio económico para Costa Rica con la incorporación o anexión del Partido de Nicoya el 25 de julio de 1824?

- A) Dio una mayor estabilidad política y jurídica al país.
- B) La reducción del número de habitantes de la nación.
- C) El desarrollo de importantes actividades agrícolas, ganaderas y turísticas.

33) Lea la siguiente información:

1. Fue acuñada la frase: «De la patria por nuestra voluntad».
2. Se separó a Costa Rica de la Federación Centroamericana.
3. Fue negociada la construcción de un canal seco.

¿Cuál número de los anteriores identifica un aspecto relacionado con la Anexión del Partido de Nicoya a Costa Rica, el 25 de julio de 1824?

- A) 1
- B) 2
- C) 3

34) Lea la siguiente información:



- Fue el último jefe de Estado y primer presidente de Costa Rica.
- Durante su administración se fundaron las primeras escuelas para niñas.
- Fue un gran defensor de la libertad de prensa.
- En 1848 dotó al país del escudo y la bandera, que permanecen hasta hoy con algunas modificaciones.

¿A cuál gobernante de Costa Rica identifica la información anterior?

- A) José María Castro Madriz
- B) Juan Rafael Mora Porras
- C) Juan Mora Fernández

35) Lea la siguiente información:




El 11 de abril los filibusteros atacaron la ciudad de forma inesperada, produciéndose una lucha sangrienta. Las tropas costarricenses estuvieron al mando del General José María Cañas, valiente militar salvadoreño.

*Estudios Sociales Síkua, MEP-ICER*

¿A cuál batalla de la Campaña Nacional 1856-1857 hace referencia la información anterior?

- A) Santa Rosa
- B) Sardinal
- C) Rivas

36) Lea los siguientes aspectos:

1	2	3
		
Añil	Cacao	Café

¿Cuál número de los anteriores identifica el producto agrícola con el que Costa Rica se incorporó al mercado mundial a partir del siglo XIX?

- A) 1
- B) 2
- C) 3

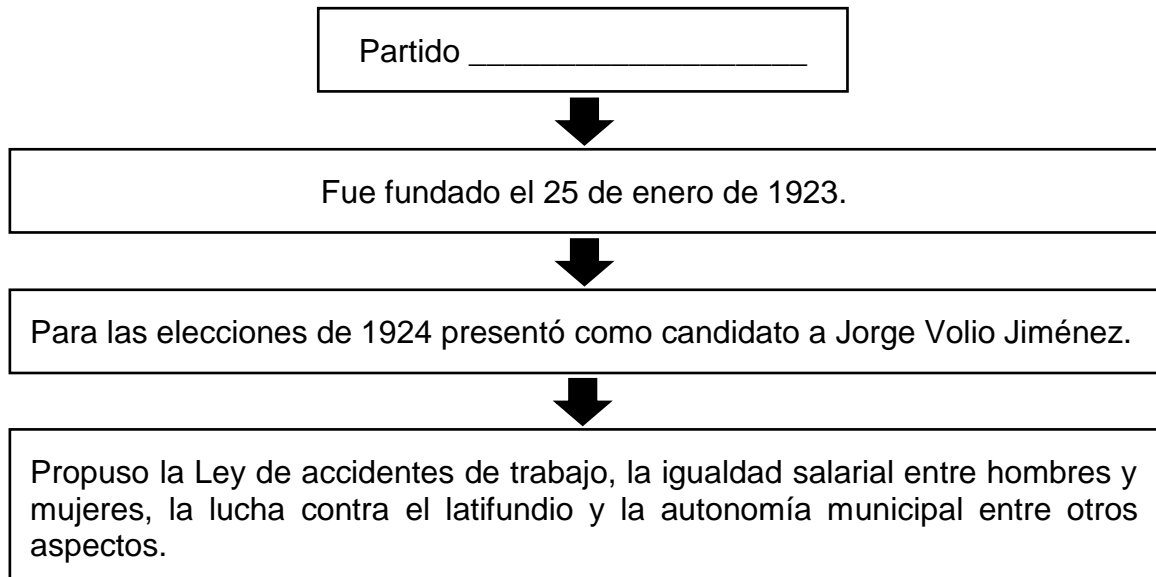
37) Lea la siguiente información:

Al conjunto de disposiciones o medidas que afectaron los planos: religioso, político, jurídico, económico y educativo, cuyo objetivo principal era fortalecer un Estado democrático, sustentado en el desarrollo y progreso material, así como en los derechos y libertades de las personas se le denominó \_\_\_\_\_

¿Cuál opción completa correctamente la información anterior?

- A) reformas liberales.
- B) intervencionismo estatal.
- C) reformismo democrático.

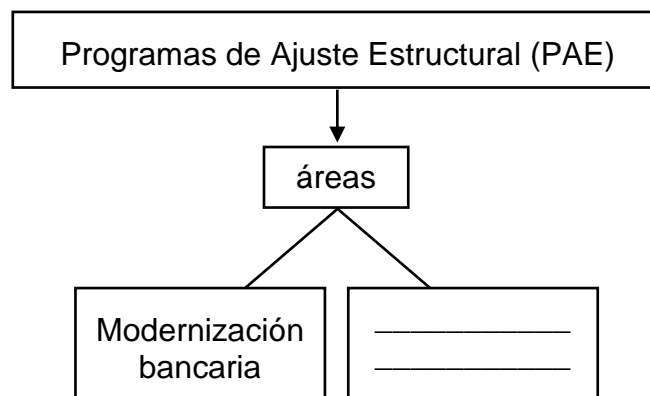
38) Lea el siguiente esquema:



¿Cuál opción completa correctamente el esquema anterior?

- A) Comunista
- B) Reformista
- C) Demócrata

39) Lea el siguiente esquema:



¿Cuál opción completa correctamente el esquema anterior?

- A) Nacionalización del capital privado
- B) Eliminación del proteccionismo estatal
- C) Distribución equitativa de las ganancias obtenidas con la industrialización

40) Lea la siguiente información:

- Que dentro de la organización moderna de la economía nacional, todas las actividades agrícolas, industriales y comerciales dependen vitalmente del crédito, cuya orientación es determinante del progreso o estancamiento nacional.
- Que funciones económicas de tal magnitud no deben estar en manos particulares, sino que constituyen, por su propia naturaleza, una función pública.
- Que el negocio de los bancos particulares no consiste exclusivamente en la colocación de sus propios recursos, sino que moviliza el ahorro nacional y las disponibilidades financieras del país, representados por los depósitos públicos.

*Parafraseo*

La información anterior permite reconocer algunos aspectos de la

- A) nacionalización bancaria en Costa Rica.
- B) creación de la Contraloría General de la República.
- C) implementación de los Programas de Ajuste Estructural.

41) En Costa Rica, el Poder Legislativo lo ejerce el pueblo por medio de los

- A) alcaldes.
- B) diputados.
- C) magistrados.

42) El voto libre, secreto, directo y universal en Costa Rica se estableció en

- A) la Carta Magna de 1844.
- B) el Pacto de Concordia en 1821.
- C) la Constitución Política de 1949.


43) Lea la siguiente lista de garantías constitucionales:

1. Libertad de tránsito.
2. Protección a la familia.
3. Derecho de descanso semanal, huelga y paro.

¿Cuál número de los anteriores identifica una garantía constitucional de tipo individual?

- A) 1
- B) 2
- C) 3

44) Lea la siguiente información:

Funciones del Poder Judicial en Costa Rica	
<ul style="list-style-type: none"><li>• Administra justicia.</li><li>• Nombra a los funcionarios del Poder Judicial.</li><li>• Conoce las causas civiles, penales, comerciales y de trabajo entre otras.</li><li>• _____</li><li>• _____</li></ul>	

¿Cuál opción completa correctamente la información anterior?

- A) Dirige, coordina y ejerce el mando supremo de la Fuerza Pública.
- B) En este se encuentra la parte que acusa, la que investiga, la que defiende y la que juzga.
- C) Dicta las leyes, reformar, deroga y da interpretación auténtica, salvo lo dicho en el capítulo referente al Tribunal Supremo de Elecciones;

45) Considere la siguiente imagen:


Escudo Nacional de Costa Rica



En la imagen anterior el blasón dorado que enmarca el escudo representa el producto que se designa como

- A) flores ornamentales de exportación.
- B) sustitución de textiles.
- C) grano de oro.

46) Lea la siguiente información:

<p data-bbox="435 1226 581 1260">La carreta</p> 	<p data-bbox="829 1241 1369 1274">Símbolo nacional _____</p> <p data-bbox="773 1314 1430 1566">Fue decretada el 22 de marzo de 1988, mediante Decreto No. 18197-C, publicado en La Gaceta No. 131 el 11 de julio de 1988 durante la presidencia de Óscar Arias Sánchez. Se distingue por sus diseños únicos con que son pintadas, con figuras geométricas, flores y animales.</p>
---	---

¿Cuál opción completa correctamente la información anterior?

- A) del trabajo.
- B) de los artesanos.
- C) de la flora y fauna.



- 47) La letra del Himno Nacional de Costa Rica data de 1903, durante la presidencia de Ascensión Esquivel Ibarra y fue escrita por
- A) Manuel María Gutiérrez Flores.
  - B) José María Zeledón Brenes.
  - C) José Joaquín Mora Porras.

- 48) La educación es considerada un valor de la cultura civilista costarricense y desde 1869 Jesús Jiménez Zamora
- A) declaró la primaria gratuita, obligatoria y costeada por el Estado.
  - B) creó escuelas para la formación de maestros en todas las provincias.
  - C) regionalizó el sistema educativo para lograr una adecuada racionalización de recursos.

- 49) Lea el siguiente caso:

Ana y Joaquín son los jefes de familia de 4 hijos, a los que con mucho esfuerzo y trabajo han educado a lo largo de sus cuarenta años de vida conyugal. Ambos esposos han procurado que desde pequeños sus hijos cumplan con sus deberes y hagan valer sus derechos. Cada cuatro años insisten que deben estar debidamente informados para hacer efectivo el derecho de elegir o ser electos.

¿Cuál valor de la cultura civilista costarricense se identifica en el caso anterior?

- A) Abstencionismo
  - B) Libertad de prensa
  - C) Defensa del sufragio
- 50) El valor que fomenta el respecto a las personas y sus opiniones, sean estas en temas políticos, religiosos, deportivos o culturales, entre otras, se denomina
- A) igualdad.
  - B) tolerancia.
  - C) solidaridad.



51) Lea la siguiente información:

- Forestal
- Servicio de Parques Nacionales
- Ley de Conservación de Vida Silvestre

La información anterior identifica leyes establecidas en Costa Rica con el propósito de

- A) prevenir cualquier tipo de alteración del medio.
- B) evitar la explotación turística de la naturaleza.
- C) utilizar los recursos racionalmente.

52) Lea la siguiente información:

- Están constituidos por derechos económicos, sociales y culturales.
- Para su realización efectiva exigen la intervención de los poderes públicos.
- Aspiran a un nivel de vida que asegure aspectos como la salud, alimentación, educación, vestido y vivienda entre otros.
- Con estos derechos se conforma el constitucionalismo social.
- Surgen con la aparición de los movimientos obreros del siglo XX.

¿A cuál generación de derechos humanos corresponde la información anterior?

- A) Segunda
- B) Primera
- C) Tercera

53) Lea los siguientes aspectos:

1. Obligación de asegurar al cónyuge.
2. Educación integral para la igualdad real.
3. Acceso a puestos públicos según su situación familiar.

¿Cuál número de los anteriores identifica un aspecto contemplado en la Ley de Promoción de la Igualdad Social de la Mujer?

- A) 1
- B) 2
- C) 3

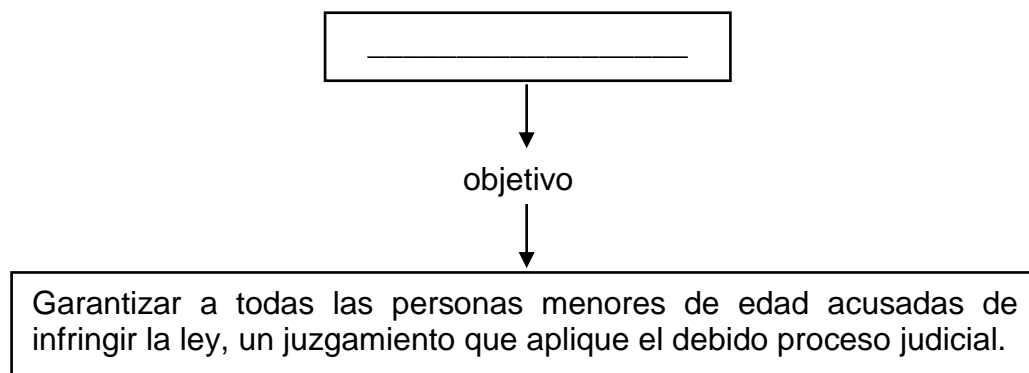
54) Lea los siguientes aspectos:

- |  |
|--|
| 1. Protege la dignidad del hombre y la mujer en las relaciones laborales y educativas.   |
| 2. Prohíbe y sanciona el acoso sexual contra las mujeres exclusivamente.   |
| 3. Atiende todas las situaciones de maltrato psicológico en los ámbitos familiar, educativo y laboral de los menores de edad prioritariamente. |

¿Cuál número de los anteriores identifica un aspecto de la Ley contra el hostigamiento sexual en el empleo y la docencia en Costa Rica?

- A) 1
- B) 2
- C) 4

55) Lea le siguiente esquema:



¿Cuál opción completa correctamente el esquema anterior?

- A) Ley de Justicia Penal Juvenil.
- B) Ley de Protección a la Niñez y la Adolescencia.
- C) Ley Orgánica del Patronato Nacional de la Infancia.



## SOLUCIONARIO ESTUDIOS SOCIALES— NATURALIZACIÓN

1	A	21	C	41	B
2	A	22	B	42	C
3	C	23	A	43	A
4	A	24	C	44	B
5	A	25	A	45	C
6	C	26	B	46	B
7	B	27	B	47	B
8	B	28	A	48	A
9	C	29	A	49	C
10	A	30	C	50	B
11	C	31	A	51	C
12	A	32	C	52	A
13	C	33	A	53	B
14	B	34	A	54	A
15	C	35	C	55	A
16	B	36	C		
17	B	37	A		
18	B	38	B		
19	A	39	B		
20	B	40	A		