



MINISTERIO DE  
EDUCACIÓN PÚBLICA

GOBIERNO  
DE COSTA RICA

**DGEC**  
Dirección de Gestión  
y Evaluación de la Calidad

Convenio MEP - ICER  
Programa Naturalización

2026

# Práctica de Historia y Valores de Costa Rica para la prueba de Naturalización

## SELECCIÓN ÚNICA

55 ÍTEMS

1) Lea la siguiente información:


Área cultural \_\_\_\_\_

- Comprendía gran parte de lo que hoy es la provincia de Guanacaste.
- La cerámica era policromada o pintada con varios colores.
- Elaboraron metates de piedra.


¿Cuál opción completa correctamente la información anterior?

- A) Caribe
- B) Andina
- C) Intermedia
- D) Mesoamericana

2) Lea la siguiente información:



Se extendió sobre parte de  
Costa Rica y Panamá,  
comprendía el Suroeste del país.



La información anterior corresponde a la región arqueológica costarricense llamada

- A) Central.
- B) Atlántica.
- C) Gran Nicoya.
- D) Gran Chiriquí.



- 3) ¿Cuál fue una causa de la llegada de Cristóbal Colón a América?
- A) Ausencia de curiosidad, conocimiento y deseos de lucro.
  - B) Búsqueda de nuevas rutas comerciales entre Europa y Asia.
  - C) Deseo de españoles y portugueses de comerciar con Occidente.
  - D) Interés de las coronas europeas por ampliar su influencia en territorios orientales.

- 4) Lea la siguiente información:

Consecuencias para los pueblos originarios de la llegada de los españoles al  
continente americano

↓

- Perdida de riquezas.
- Dominio sobre las poblaciones indígenas.
- \_\_\_\_\_.

¿Cuál opción completa correctamente la información anterior?

- A) Refuerzo de las lenguas autóctonas
  - B) Mejoramiento de las condiciones ecológicas
  - C) Contagio de enfermedades como sífilis, gripe, viruela
  - D) Incremento en la autogestión de las estructuras políticas indígenas
- 5) El impuesto de ventas que osciló entre el 2 % y el 4 % sobre el valor de las mercancías cobrado por España durante la época colonial se denominó
- A) diezmo.
  - B) alcabala.
  - C) quinto real.
  - D) almojarifazgo.



6) Lea la siguiente información:

«Mezcla de tres grupos étnicos, entre las cuales interviene siempre el afrodescendiente».

¿A cuál grupo étnico de la época de la colonia hace referencia el cuadro anterior?

- A) Pardo
- B) Criollo
- C) Ladino
- D) Mulato

7) Lea la siguiente información:

- Fue una institución representativa de la comunidad durante la época colonial.
- Tenía jurisdicción sobre un territorio de extensión limitada.
- Velaba por el buen funcionamiento de la ciudad

La información anterior hace referencia a la organización administrativa denominada

- A) cabildo.
- B) provincia.
- C) capitanía.
- D) virreinato.

8) En Costa Rica durante la época colonial, los cargos políticos más importantes fueron ocupados por los

- A) criollos.
- B) Ladinos.
- C) mestizos.
- D) españoles.



9) Lea la siguiente información:

Causas de la independencia de Hispanoamérica y Costa Rica

- Ideas de la Ilustración.
- La Revolución Francesa.
- \_\_\_\_\_.

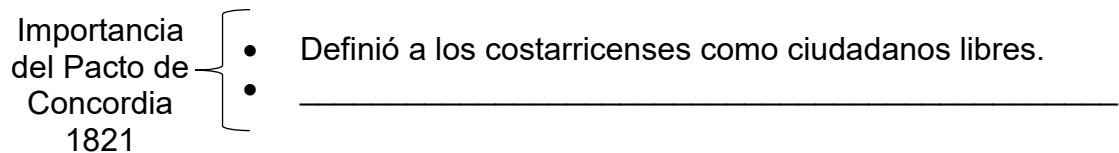
¿Cuál opción completa correctamente la información anterior?

- A) Falta de aprobación del monopolio comercial con España
- B) Situación de los criollos quienes tenían gran poder político
- C) Ideas de soberanía popular emanadas en las Cortes de Cádiz
- D) Rivalidades económicas entre comerciantes locales y peninsulares

10) ¿Cuál fue una causa de la independencia de Hispanoamérica y Costa Rica?

- A) Redacción del Pacto de Concordia.
- B) Abolición definitiva de la esclavitud.
- C) Formación de colonias dependientes.
- D) Independencia de las Trece Colonias.

11) Lea el siguiente esquema:



¿Cuál opción completa correctamente el esquema anterior?

- A) Estableció una Junta Superior Gubernativa como forma de gobierno
- B) Estableció las garantías sociales para los obreros artesanales
- C) Definió un sistema electoral basado en asambleas locales
- D) Eliminó la religión oficial, ordenando la libertad de culto



12) Lea la siguiente información:

- El país recibió el Acta de Independencia de Guatemala.
- Se buscaba evitar conflictos entre los habitantes de Costa Rica.
- Costa Rica se independizó de España el 15 de septiembre de 1821.

La información anterior, se refiere al contexto que reconoce las bases fundamentales en la organización republicana del Estado Nación costarricense mediante

- A) el Pacto de concordia.
- B) la Ley Fundamental del Estado Libre de Costa Rica.
- C) el primer Estatuto Político de la Provincia de Costa Rica
- D) el Reglamento Provisorio para la Administración de Justicia en Costa Rica.

13) ¿Cuál de las siguientes opciones indica una causa económica de la Anexión del Partido de Nicoya a Costa Rica?

- A) La guerra civil en Nicaragua.
- B) El comercio desarrollado entre ambas regiones.
- C) Los vínculos entre las familias guanacastecas y puntarenenses.
- D) El interés político por fortalecer la representación territorial en Centroamérica.

14) Lea la siguiente información:

1. Favoreció el desarrollo de la agricultura y la ganadería.
2. Inició el proceso de industrialización de materiales de oro.
3. Se dio la disolución de la Capitanía General de Guatemala.
4. Costa Rica recibió un gran aporte cultural con las comidas a base de maíz.

¿Cuál número de los anteriores indica una consecuencia económica que se generó con la Anexión del Partido de Nicoya a Costa Rica?

- A) 1
- B) 2
- C) 3
- D) 4

15) Lea la siguiente información:

- Ocurrió el 20 de marzo de 1856 en Guanacaste.
- Fue la primera derrota de los invasores en Costa Rica.
- Los costarricenses se dieron cuenta que el enemigo no era invencible.



¿A cuál batalla o enfrentamiento de la Campaña Nacional hace referencia la información anterior?

- A) Rivas
- B) Sardinal
- C) Santa Rosa
- D) Toma de la vía de tránsito

16) Lea la siguiente información:

1. Debilitamiento político en la región.
2. Derrota de los pueblos centroamericanos.
3. Pérdidas humanas por la guerra y por enfermedades.
3. Mejora de la economía de los países centroamericanos.

¿Cuál número de los anteriores identifica una consecuencia de la Campaña Nacional 1856-1857?

- A) 1
- B) 2
- C) 3
- D) 4



- 17) Juan Rafael Mora Porras destacó como presidente de Costa Rica por
- A) impulsar negociaciones diplomáticas para ampliar el comercio regional.
  - B) defender la soberanía nacional en la Guerra de 1856.
  - C) evitar un conflicto militar con Guatemala en 1885.
  - D) dotar al país de símbolos nacionales en 1848.
- 18) Una característica del Estado liberal en Costa Rica durante la primera mitad del siglo XX consistió en
- A) fomentar la agricultura y la inversión extranjera.
  - B) limitar los derechos y deberes de los ciudadanos del país.
  - C) controlar la relación entre los patronos y los trabajadores.
  - D) fortalecer la intervención estatal en los servicios privados.
- 19) Lea la siguiente información:

- Este modelo se basó en el monocultivo del café y el banano con lo cual integró a Costa Rica al mercado internacional en el siglo XIX y XX.
- Implicó la inserción de la economía nacional en la división internacional del trabajo como proveedora de materias primas, en tanto que importaba del exterior manufacturas industriales, pero también mano de obra y de capital.

El texto anterior, se refiere a la consolidación del modelo económico denominado

- A) Neoliberal.
- B) Agroexportador.
- C) Desarrollo hacia fuera.
- D) Promoción de exportaciones.



20) Lea la siguiente información:

- Se creó el Banco Internacional de Costa Rica.
- Se estableció el impuesto sobre la renta y el impuesto territorial.
- Se inició una serie de medidas destinadas a la creación de impuestos directos.

La información anterior, se refiere a acciones que se generaron ante la crisis del estado Liberal, durante el gobierno de

- A) Ricardo Jiménez Oreamuno.
- B) Alfredo González Flores.
- C) Cleto González Víquez.
- D) Julio Acosta García.

21) Lea el siguiente texto:

«Los postulados se difundieron por medio de diversas vías políticas e ideológicas; empero, prevaleció un sustrato que demandaba la intervención del Estado en la vida social, las relaciones económicas; además, se solicitaba atención a las formas en que se explotaba el trabajo, se concentraba la riqueza, y se reproducían las camadas más expoliadas de quienes vendían su fuerza física. También se inquirió sobre la pequeña gama de negocios productivos y comercializadores locales. La doctrina social de la Iglesia fue, en definitiva, la plataforma de ascenso».

<https://goo.su/v61iYev>

El texto anterior se refiere al movimiento social de la primera mitad del siglo XX en Costa Rica, denominado partido

- A) Liberal.
- B) Reformista.
- C) Republicano.
- D) Conservador.



22) Lea el siguiente texto:

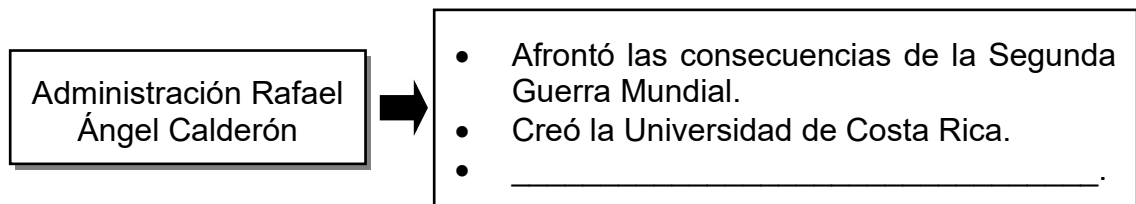
«La fundación de este partido costarricense se verificó en el momento en que el país empezaba a experimentar las primeras dificultades económicas producto de la crisis mundial iniciada en 1929. Este partido político hizo surgir la lucha de clases en el plano político de manera organizada y consciente. Fueron los primeros en articular partido y sindicatos sobre una base permanente».

<https://journals.openedition.org/amnis/736>

El texto anterior se refiere al movimiento social de la primera mitad del siglo XX denominado partido

- A) Socialista.
- B) Comunista.
- C) Liberal Democrático.
- D) independiente Demócrata.

23) Lea la siguiente información:



¿Cuál opción completa correctamente la información anterior?

- A) Redactó el código civil actual
- B) Creó la Universidad de Santo Tomás
- C) Suscribió el tratado de límites con Nicaragua
- D) Instituyó la Caja Costarricense de Seguro Social



24) Lea la siguiente información:

- Garantías Sociales
- Salud ocupacional
- Contratos individuales y colectivos

La información anterior, se refiere a una de las reformas sociales de 1940 en Costa Rica denominada Código

- A) Procesal civil.
- B) de Trabajo.
- C) de Familia.
- D) Civil.

25) Lea el siguiente texto:

«El trabajo es un deber social y gozará de la especial protección de las leyes, con el objeto de que su cumplimiento de al individuo derecho a una existencia digna y acorde con sus esfuerzos y aptitudes».

<https://goo.su/Q3PYDy>

El texto anterior se refiere a la importancia del trabajo el cual fue establecido como una de las reformas sociales llevada a cabo en Costa Rica, denomina

- A) Ley Electoral.
- B) Garantías Sociales.
- C) Leyes anticlericales.
- D) Código de procedimientos.



26) Lea la siguiente información:

1. Derogación de la Constitución Política de Costa Rica.
2. Creación de la pena de muerte.
3. Acusación de fraude electoral.
4. Abolición del ejército.

¿Cuál opción indica una causa de la guerra civil de Costa Rica de 1948?

- A) 1
- B) 2
- C) 3
- D) 4

27) ¿Cuál de las siguientes opciones identifica una consecuencia política de la guerra civil de 1948 en Costa Rica?

- A) Un período de incertidumbre y cambio en la sociedad costarricense.
- B) Reorganización temporal de algunas instituciones privadas.
- C) La Creación del Tribunal Supremo de Elecciones.
- D) Pérdidas humanas y profundas tensiones civiles.

28) Lea la siguiente información:

1. Promoción de gobiernos estables.
2. Ampliación del sector económico secundario.
3. Gobierno asumió un papel más directo en la economía.

La información anterior identifica características del Estado

- A) Gestor.
- B) Liberal.
- C) Comunista.
- D) Reformista.



29) Lea la siguiente información:

1. Sustitución de importaciones.
2. Privatización del sistema bancario.
3. Surgimiento de una clase social baja.
4. Garantiza el acceso a servicios básicos como educación privada.

¿Cuál número de los anteriores se refiere a una característica económica del Estado Gestor en Costa Rica?

- A) 1
- B) 2
- C) 3

30) ¿Cuál de las siguientes opciones refleja un cambio en las condiciones de vida de la población costarricense que se produjo entre 1950 y 1980 debido al Estado Gestor?

- A) Expansión de asentamientos rurales sin mejora en los servicios públicos.
- B) Recortes en la planilla del Estado, aumentando el desempleo.
- C) Debilitamiento de las exportaciones de bienes industriales.
- D) Incremento del estrato social denominado clase media.

31) Lea la siguiente información:

1. Creación de zonas francas.
2. Aumento de la deuda pública.
3. Reducción del tamaño del Estado.
4. Aumento en el precio internacional de los hidrocarburos.

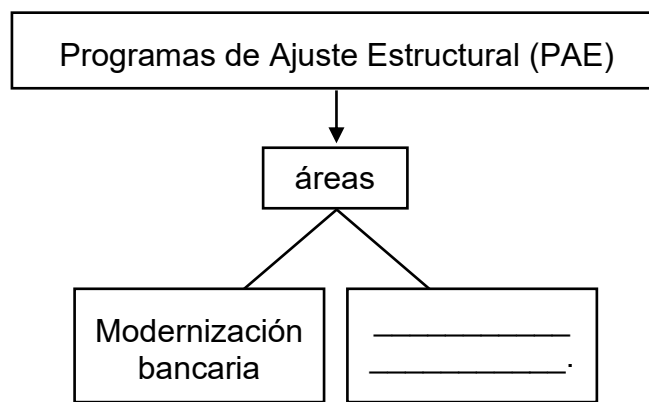
¿Cuál número de los anteriores identifica una causa interna de la crisis del Estado Gestor en Costa Rica?

- A) 1
- B) 2
- C) 3

32) ¿Cuál de las siguientes opciones identifica una consecuencia económica de la crisis del estado Gestor en Costa Rica?

- A) Crecimiento del Producto Interno Bruto.
- B) Reducción de los aranceles monetarios.
- C) Agotamiento de las reservas monetarias.
- D) Disminución del déficit fiscal por ajustes administrativos.

33) Lea el siguiente esquema:



¿Cuál opción completa correctamente el esquema anterior?

- A) Fomento a la industria nacional
- B) Nacionalización del capital privado
- C) Eliminación del proteccionismo estatal
- D) Disminución del mercado interno y externo

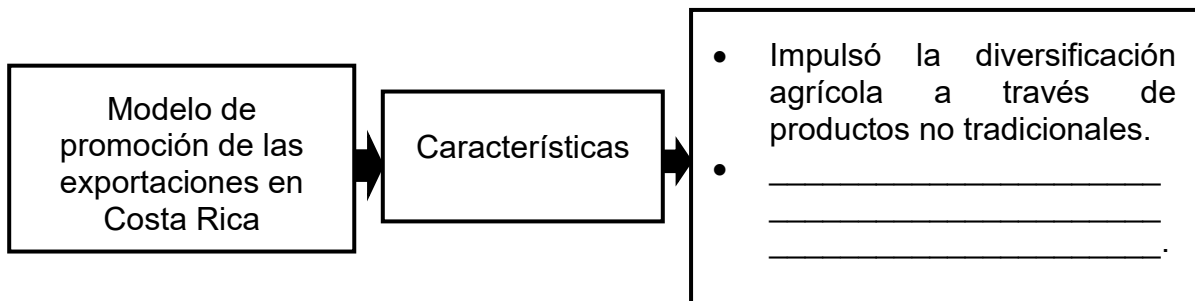
34) Lea la siguiente información:

1. Incremento del subempleo y el empleo informal.
2. Aumento en los salarios reales para la población.
3. Estabilidad y protección para las personas trabajadoras.
4. Reducción en el costo de los servicios de agua y electricidad.

¿Cuál número de los anteriores representa una consecuencia de los Programas de Ajuste Estructural en Costa Rica?

- A) 1
- B) 2
- C) 3

35) Lea el siguiente esquema:



¿Cuál opción completa correctamente el esquema anterior?

- A) Desestimuló el sector industrial para fomentar actividades artesanales
- B) Favoreció un sistema de producción agrícola basado en el monocultivo
- C) Promovió la producción industrial a través del régimen de zonas francas
- D) Impulsó únicamente la transferencia de tecnología sin incentivos a la inversión extranjera



36) Lea la siguiente información:

- Reestructuración del aparato productivo.
- Diversificación de la producción industrial.
- Incentivo al cultivo de productos no tradicionales

La información anterior se refiere a una consecuencia económica en Costa Rica del modelo denominado

- A) Promoción de las exportaciones.
- B) Sustitución de importaciones.
- C) Agroexportador.
- D) Socialista.

37) Lea el siguiente texto:

«Costa Rica se enfrenta a un proceso de envejecimiento de la población que requiere adaptar el gasto a los cambios demográficos, ya que dichos cambios ponen presión entre las demandas de una Costa Rica que envejece y otra Costa Rica más joven, pero diferenciada territorialmente».

<https://goo.su/fAv8jRs>

De acuerdo con el texto anterior, Costa Rica en la actualidad presenta un desafío de tipo

- A) social.
- B) político.
- C) ecológico.
- D) económico.



38) Lea el siguiente texto:

«En la actualidad, Costa Rica afronta retos asociados al uso insostenible de recursos como es el caso de la gestión del recurso hídrico, la poca planificación en el uso del suelo y el abuso en el consumo de agroquímicos».

<https://revistas.ucr.ac.cr/index.php/pensamiento-actual/article/view/62870>

De acuerdo con el texto anterior, Costa Rica en la actualidad presenta un desafío de tipo

- A) atmosférico.
- B) económico.
- C) ambiental.
- D) educativo.

39) Lea el siguiente texto:

«Mi libertad no es absoluta y está limitada por la realidad, por el Estado de derecho y por los principios y normas de la Constitución Política. Sobre todo, es importante entender que mi libertad está limitada por la igualdad ante la ley y que con mis decisiones o acciones no puedo dañar las libertades, la vida o las propiedades de terceros».

<https://acortar.link/kkGdF6>

El texto anterior se refiere al valor de la sociedad costarricense el cual permite

- A) fortalecer la autonomía individual y colectiva.
- B) resaltar las diferencias de la sociedad costarricense.
- C) diferenciar acciones en favor de los estratos de clase alta.
- D) justificar restricciones sociales basadas únicamente en intereses particulares.



40) Lea la siguiente información:

- Principio normativo que busca garantizar que todas las personas tengan los mismos derechos y oportunidades, sin importar su condición.
- El Estado debe intervenir para que las personas en desventaja puedan hacer valer sus derechos.
- Establecer políticas sociales que eliminen las leyes, políticas y prácticas discriminatorias.

La información anterior, se refiere al valor de la sociedad costarricense el cual permite resaltar la

- A) equidad de género.
- B) diferencia social.
- C) igualdad real.
- D) eficiencia.

41) Lea la siguiente información:

«Valor que se define como la actitud de participación o apoyo hacia una persona que necesita ayuda».

¿Cuál valor define la información anterior?

- A) Correspondencia
- B) Solidaridad
- C) Igualdad
- D) Paz



42) Lea el siguiente texto:

«Valor que permite fomentar el respeto por las opiniones, la formas de actuar y creencias de las personas, a fin de comprender sus puntos de vista, aunque coincidan o no con las propias, lo cual es importante para evitar conflictos».

El texto anterior hace referencia al valor de la cultura costarricense denominado

- A) tolerancia.
- B) honradez.
- C) justicia.
- D) paz.

43) Lea la siguiente información:

1. Genera acciones favorables al racismo y la intolerancia hacia otras personas.
2. Implica el respeto a los derechos de las personas y la convivencia pacífica.
3. Establece labores que contribuyen a la división de las comunidades.
4. Favorece la aplicación estricta de normas sin considerar el diálogo.

¿Cuál opción identifica un elemento del valor de la paz en la cultura costarricense?

- A) 1
- B) 2
- C) 3
- D) 4



44) Lea la siguiente información:

- No copiar en evaluaciones.
- Ayuda a tomar decisiones razonadas.
- Mantenerse fiel a los principios y valores personales

La información anterior se refiere valor de la cultura costarricense, denominado

- A) Responsabilidad.
- B) Compromiso.
- C) Honestidad.
- D) Solidaridad.

45) Lea la siguiente información:

- Calidad de un gobierno, empresa, organización o persona de ser abierta en la divulgación de información, normas, planes, procesos y acciones.
- Los funcionarios públicos, empleados públicos, gerentes y directores de empresas y organizaciones, y las juntas directivas tienen la obligación de actuar de manera visible, predecible y comprensible en la promoción de la participación y la rendición de cuentas.

La información anterior hace referencia al valor institucional costarricense denominado

- A) eficacia.
- B) transparencia.
- C) igualdad política.
- D) política estatal inclusiva.



46) Lea la siguiente información:

1. Alude a la planificación de los procesos para alcanzar los objetivos de una organización.
2. Se refiere a la capacidad de alcanzar las metas que la compañía se dispuso a alcanzar.
3. Tiene que ver con la designación de tareas y responsabilidades en forma racional para cada empleado.
4. Implica organizar recursos y procedimientos para optimizar el funcionamiento interno, sin garantizar resultados.

¿Cuál número de los anteriores se refiere a la eficacia como valor institucional de Costa Rica?

- A) 1
- B) 2
- C) 3
- D) 4

47) Lea el siguiente caso:

E  
I Carmen forma parte del consejo distrital en la comunidad en la que vive, desde ahí puede plantear mejoras para su comunidad.

caso anterior permite reconocer el valor de la organización institucional de Costa Rica denominado

- A) respeto a las mayorías.
- B) derecho al desacuerdo.
- C) espacio de representación.
- D) Resolución alternativa de conflictos.



48) Lea el siguiente texto:

«Subrayando que la promoción y la realización constantes de los derechos de las personas pertenecientes a grupos nacionales o étnicas, religiosas y lingüísticas, como parte integrante del desarrollo de la sociedad en su conjunto y dentro de un marco democrático basado en el imperio de la ley, contribuirían al robustecimiento de la amistad y de la cooperación entre los pueblos y los Estados».

<https://goo.su/fr5oW>

El texto anterior permite reconocer como valor de la organización institucional de Costa Rica denominado

- A) promover las acciones desiguales.
- B) respeto de mayorías y minorías.
- C) igualdad real económica.
- D) derecho al desacuerdo.

49) Lea el siguiente texto:

«La principal característica de este valor es la independencia de los poderes públicos, el acato de cada uno de ellos hacia las facultades y obligaciones de los otros, el no inmiscuirse ni presionar decisiones de un órgano a otro».

<https://goo.su/ZKJzP5>

El texto anterior permite reconocer al valor de la organización institucional de Costa Rica, denominado respeto a la

- A) institucionalidad democrática.
- B) desigualdad de la población.
- C) diversidad de género.
- D) beligerancia sindical.



50) Lea la siguiente información:

Este símbolo nacional destaca por su papel en la consolidación de la identidad cultural costarricense. Su creación respondió al interés de las élites liberales por promover las artes y proyectar al país como una nación moderna. Su valor radica tanto en su aporte artístico como en su función como espacio de representación nacional.

¿A cuál símbolo nacional se refiere la información anterior?

- A) La bandera
- B) El Teatro Nacional
- C) El Templo de la música
- D) La casona de Santa Rosa

51) Lea la siguiente información:



«El escudo nacional posee signos emblemáticos con distintos significados propios para Costa Rica».

*Estudios Sociales Sikua*

Según la información anterior, ¿cuál signo representa el comercio en el escudo nacional?

- A) Las hojas de mirto
- B) Los granos dorados
- C) Los barcos mercantes
- D) Las cintas blancas de la parte superior



52) Lea la siguiente información:

1. El tapir
2. El yigüirro
3. La lapa roja
4. La gallina de monte

¿Con cuál número de los anteriores identifica el símbolo de la fauna silvestre de Costa Rica?

- A) 1
- B) 2
- C) 3
- D) 4

53) Lea el siguiente texto:

«Fue decretado símbolo nacional del trabajo en el año 1988 durante la administración de Oscar Arias Sánchez. Por ser una expresión del arte costarricense y por su uso histórico, este símbolo fortalece la identidad nacional».

El texto anterior establece el significado y características del Símbolo Nacional costarricense denominado

- A) la carreta.
- B) el canasto.
- C) el chonete.
- D) La piedra de moler.



54) Lea la siguiente información:

- En el año de 1852 se creó la música del Himno Nacional de Costa Rica para ser interpretada en las visitas diplomáticas que realizaría Gran Bretaña y Estados Unidos de América al país.
- Dicha labor se le asignó a \_\_\_\_\_.

¿Cuál opción completa correctamente el espacio del texto anterior?

- A) José María Zeledón
- B) José Joaquín Gutiérrez
- C) Cleto González Víquez
- D) Manuel María Gutiérrez

55) Lea el siguiente texto:

«Declarado símbolo nacional patrio mediante la Ley No. 17.437, de esta forma, se reconoce el potencial como parte de la economía nacional, así como su valor escénico y natural. La Ley faculta a las instituciones públicas a promover este destino turístico como una marca país. Por otro lado, es la primera vez en que se nombra símbolo nacional a un sitio turístico».

*<https://acortar.link/k51Rx>*

El texto anterior hace referencia al símbolo nacional de Costa Rica denominado

- A) Las mascaradas tradicionales.
- B) Las esferas precolombinas.
- C) El volcán Irazú.
- D) Los crestones.



## SOLUCIONARIO

### HISTORIA Y VALORES DE COSTA RICA — NATURALIZACIÓN

1	D	21	B	41	B
2	D	22	B	42	A
3	D	23	D	43	B
4	C	24	B	44	C
5	B	25	B	45	B
6	A	26	C	46	B
7	A	27	C	47	C
8	D	28	A	48	B
9	C	29	A	49	A
10	D	30	D	50	B
11	A	31	B	51	C
12	A	32	C	52	B
13	B	33	C	53	A
14	A	34	A	54	D
15	C	35	C	55	D
16	C	36	A		
17	B	37	A		
18	A	38	C		
19	B	39	A		
20	B	40	C		