



MINISTERIO DE  
EDUCACIÓN PÚBLICA

GOBIERNO  
DE COSTA RICA

**DGEC**  
Dirección de Gestión  
y Evaluación de la Calidad

**Convenio MEP - ICER**

**Programa III ciclo de la Educación  
General Básica Abierta**

**2026**

**Práctica de Formación Ciudadana**  
**para la prueba de séptimo de**  
**III ciclo de la Educación General**  
**Básica Abierta**



SELECCIÓN ÚNICA

55 ÍTEMS

1) Lea el siguiente texto:

Es la disciplina que estudia al ser humano en relación con los demás y su comportamiento, con el propósito de exaltar conductas positivas que sirvan de base en la formación de individuos para que estos puedan utilizar correctamente sus derechos y cumplir sus responsabilidades y obligaciones.

El texto anterior se refiere al concepto de

- A) Estudios Sociales.
- B) Educación Cívica.
- C) Historia.
- D) Política.

2) Lea la siguiente información:

Ley fundamental que expresa las funciones de los poderes del Estado, los valores que inspiran y orientan la vida de las instituciones.

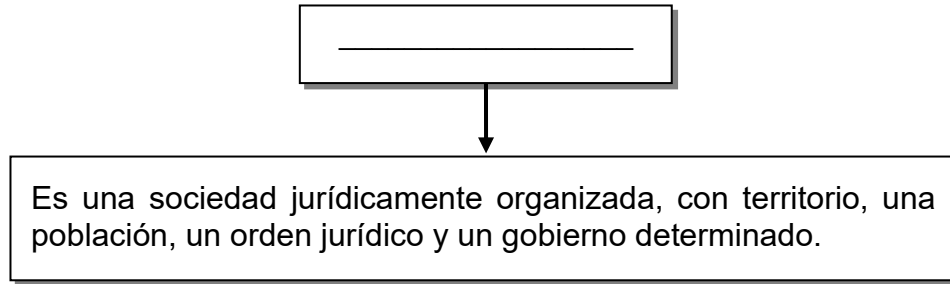
*Adaptado de Formación Ciudadana. Educación Cívica, MEP-ICER*

La información anterior se refiere al concepto de

- A) norma.
- B) código.
- C) estatuto.
- D) Constitución Política.



3) Considere el siguiente esquema:



¿Cuál opción completa correctamente el esquema anterior?

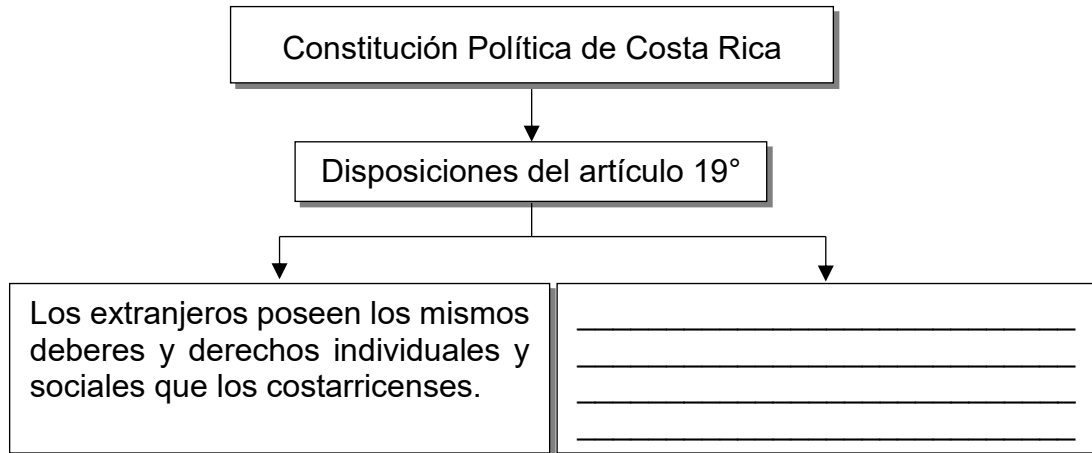
- A) Estado
- B) Alcaldía
- C) Gobierno
- D) Ciudadano

4) De acuerdo con el artículo 11º del Código de la Niñez y la Adolescencia de Costa Rica, ¿cuál es un deber de las personas menores de edad?

- A) Tener libertad de expresión
- B) Poseer un nombre y una nacionalidad
- C) Respetar los derechos y las garantías de las otras personas
- D) Permitir el trabajo infantil hasta adquirir los 15 años de edad



5) Lea el siguiente esquema:



¿Cuál opción completa correctamente el esquema anterior?

- A) Establece que Costa Rica, es una República democrática, libre y con un sistema de gobierno representativo.
- B) Limita la participación de las personas foráneas en los puestos de elección de cargos públicos e integrarse a los partidos políticos.
- C) Otorga sin restricciones a los extranjeros, ejercer cada cuatro años el sufragio en los procesos electorales presidenciales y de diputaciones.
- D) Demuestra que la sociedad está conformada por diversos grupos humanos y por lo tanto coexisten distintas poblaciones que enriquecen la cultura.

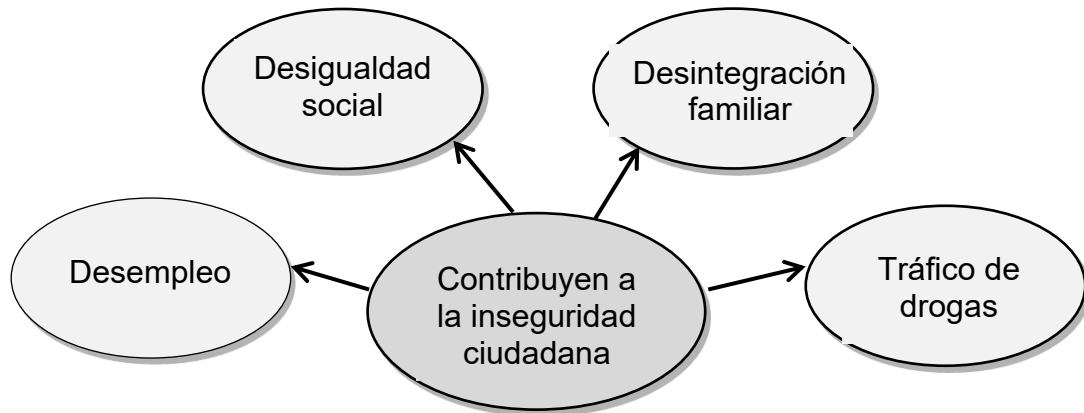
6) Lea la siguiente información:

- Es el conjunto de prejuicios, creencias, actitudes y opiniones preconcebidas y parcializadas, que se aplican a las personas pertenecientes a una misma categoría definida por características, como: sexo, edad, nacionalidad, etnia, preferencia sexual, procedencia geográfica, entre otros.
- Son la base de la discriminación y de la intolerancia.

La información anterior se refiere al concepto de

- A) percepciones.
- B) estereotipos.
- C) costumbres.
- D) tradiciones.

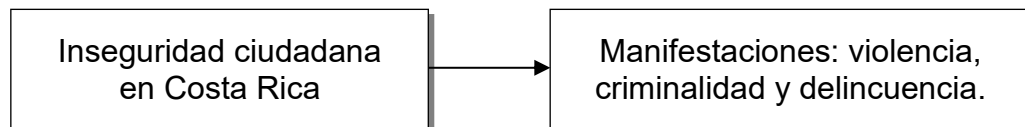
7) Lea la siguiente información:



¿Cuál medida de tipo preventiva puede aplicarse en Costa Rica para enfrentar la problemática de la información anterior?

- A) Propiciar la eliminación de las diferencias culturales de los pueblos
- B) Trasladar las comunidades vulnerables a otras zonas del país
- C) Aumentar el número de centros penitenciarios
- D) Promover políticas públicas de equidad social

8) Considere el siguiente esquema:

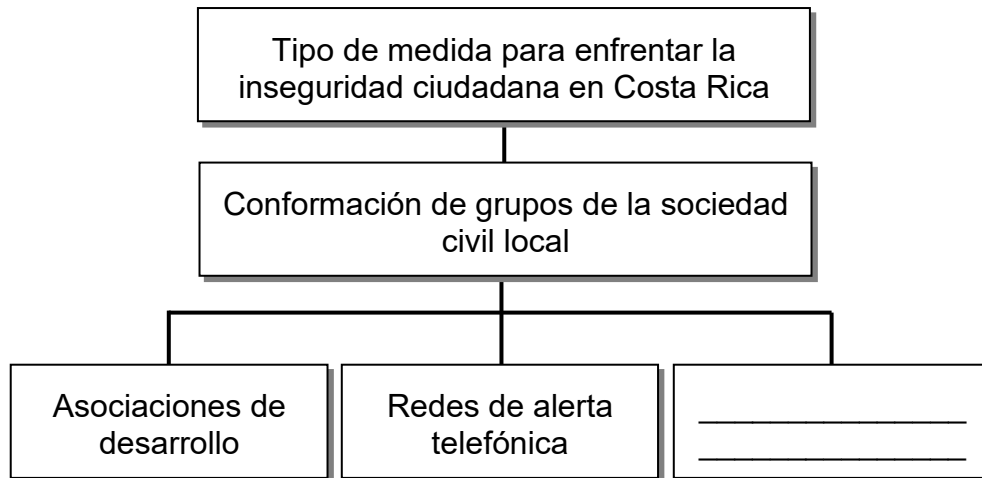


El gobierno de Costa Rica pretende contrarrestar la problemática planteada en el esquema anterior, al fomentar la ejecución de políticas públicas que promuevan la

- A) creación de juntas de vecinos que asuman las funciones de la policía municipal.
- B) desarticulación de las redes de apoyo en las comunidades.
- C) construcción de espacios seguros en las comunidades.
- D) adquisición de armas de fuego en el país.



9) Considere el siguiente esquema:



¿Cuál opción completa correctamente el esquema anterior?

- A) Agentes de la Dirección Nacional de Seguridad Social
- B) Funcionarios del Organismo de Investigación Judicial
- C) Policía de la contraloría de servicios
- D) Comités de seguridad comunitaria

10) Lea la siguiente situación:



¿Cuál es el concepto que se reconoce en la situación anterior?

- A) Delito
- B) Deber
- C) Discriminación
- D) Inseguridad real

11) Lea los siguientes aspectos:

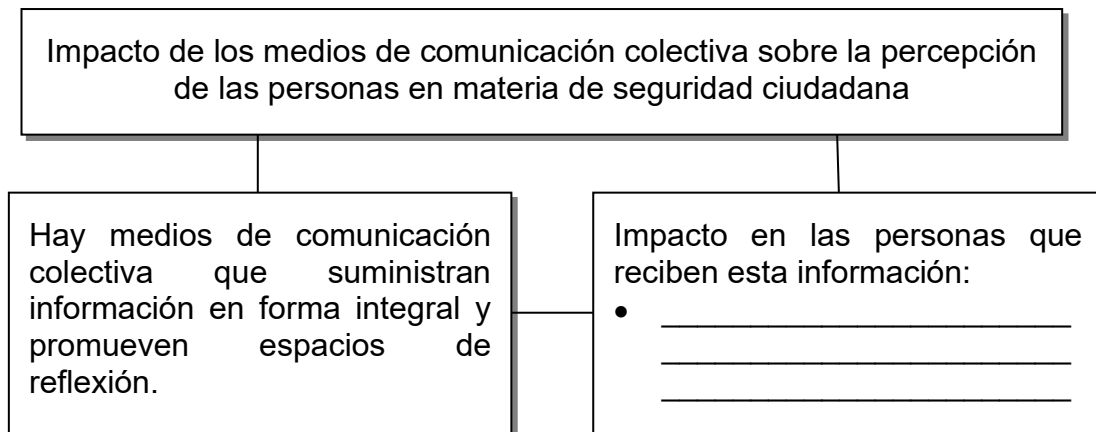
1. Incentivar el desarrollo de actividades recreativas, artísticas, culturales y prácticas deportivas.
2. Asignar a las organizaciones comunitarias, de forma exclusiva, la prevención en la comisión de delitos contra la propiedad.
3. Promover la aplicación de sanciones severas a las personas que violenten la vida humana, entre ellas la pena de muerte.
4. Establecer acciones que permitan la permanencia de los estudiantes en las diferentes modalidades del sistema educativo.

¿Cuáles números de los aspectos anteriores, ejemplifican medidas que se deben aplicar en la sociedad costarricense para enfrentar la violencia?

- A) 1 y 2
- B) 1 y 4
- C) 2 y 3
- D) 3 y 4



- 12) El Estado costarricense tiene la responsabilidad de velar por la seguridad de la población, por tal razón ha creado diferentes instituciones, una de ellas es el Ministerio de Seguridad Pública, ¿cuál es una función de dicho Ministerio?
- A) Vigilar y controlar los centros penitenciarios de todo el país
  - B) Prevenir los delitos para disminuir los índices de criminalidad
  - C) Realizar investigaciones, recolectar evidencias e indagar las causas delictivas
  - D) Ejercer el control de las ventas ambulantes de acuerdo con la normativa vigente
- 13) La Ley de Justicia Penal Juvenil es de gran importancia para la sociedad costarricense en materia de derechos humanos, porque
- A) elimina el trabajo comunal como sanción correctiva.
  - B) aplica los mismos procesos y sanciones a todos los mayores de edad.
  - C) promueve la sanción penal con una finalidad educativa y de inserción social.
  - D) aplica la privación de libertad a las personas cuyas edades oscilan entre los 10 y 18 años.
- 14) Lea la siguiente información:



¿Cuál opción completa correctamente la información anterior?

- A) Promueven la confrontación de opiniones y hábitos nocivos que afectan la seguridad ciudadana.
- B) Contribuyen al desarrollo de opiniones activas y responsables.
- C) Producen incredulidad y desconfianza en la opinión pública.
- D) Evitan la formación de valores en las personas.



- 15) La Fuerza Pública, como cuerpo policial de Costa Rica, se encarga de asegurar el mantenimiento del orden público, la seguridad de los habitantes y
- A) el ejercicio de las garantías constitucionales.
  - B) la destrucción de la vida comunitaria.
  - C) el cobro de los impuestos de renta.
  - D) la creación de políticas públicas.

- 16) Lea la siguiente información:

Esta entidad por iniciativa propia, por denuncia o por orden de autoridad competente, procede a indagar los delitos de la acción pública, a impedir que los hechos cometidos sean llevados a consecuencias ulteriores, a identificar y aprehender preventivamente a los presuntos culpables.

En la información anterior se hace referencia a la importancia que tiene en Costa Rica, la institución denominada

- A) Fuerza Pública.
  - B) Ministerio Público.
  - C) Escuela Nacional de Policías.
  - D) Organismo de Investigación Judicial.
- 17) Lea la siguiente información:



1. Elección del primer directorio definitivo.
2. Inscripción del comité de vecinos en la municipalidad respectiva.
3. Presentación de una copia autorizada del acta constitutiva en la municipalidad correspondiente.
4. Realización de la asamblea constitutiva con la presencia de un funcionario municipal, un oficial del Registro Civil o notario.

¿Cuál número de los anteriores identifica el primer paso para conformar un comité de vecinos de acuerdo con la legislación vigente en Costa Rica?

- A) 1
- B) 2
- C) 3
- D) 4



18) Lea los siguientes aspectos:

1. Representan a los vecinos ante las autoridades para lograr convenios de desarrollo.
2. Efectúan actividades con fines de lucro para aumentar su patrimonio.
3. Realizan acciones proselitistas que beneficien a los vecinos.
4. Gestionan soluciones a los problemas ante las autoridades.

¿Cuáles números de los anteriores identifican dos aspectos de los comités de vecinos en Costa Rica?

- A) 1 y 3
- B) 1 y 4
- C) 2 y 3
- D) 2 y 4

19) Lea la siguiente información:

- Su objetivo principal es poder orientar a los ciudadanos ante el problema de la inseguridad en los barrios.
- Se organizan internamente y reciben charlas con los miembros de la Fuerza Pública sobre técnicas de la forma de actuar contra el hampa.

La información anterior permite el reconocimiento de funciones que se ejecutan a través de

- A) las organizaciones no gubernamentales.
- B) los programas de seguridad comunitaria.
- C) los comités locales de gestión y prevención del riesgo.
- D) los cuerpos policiales de tránsito y de los gobiernos locales.



- 20) ¿Cuál es la importancia de la seguridad ciudadana para la persona joven?
- A) Garantizar el disfrute pleno de cada de sus deberes y obligaciones individuales
  - B) Permitir sentirse libre de temores o miedos al movilizarse en los alrededores de su entorno geográfico
  - C) Incentivar la participación limitada y restringida en los comités locales en las áreas deportiva, artística y cultural
  - D) Empoderar a los jóvenes a aprender técnicas de defensa personal y evitar de esta forma ser víctimas de asaltos y violencia física

- 21) Lea los siguientes aspectos:

1. Otorgar la licencia a todas las personas que quieran conducir un vehículo.

2. Crear condiciones para que no sucedan los accidentes de tránsito.

3. Demarcar las calles para los conductores y peatones.


4. Mejorar el servicio de trenes en el país.

¿Cuáles números de los anteriores identifican dos aspectos importantes de la seguridad vial en Costa Rica?

- A) 1 y 3
- B) 1 y 4
- C) 2 y 3
- D) 2 y 4



22) Observe el siguiente dibujo:



¿A cuál tipo de señal de tránsito corresponde el dibujo anterior?

- A) Horizontal
- B) Prevención
- C) Información
- D) Reglamentación

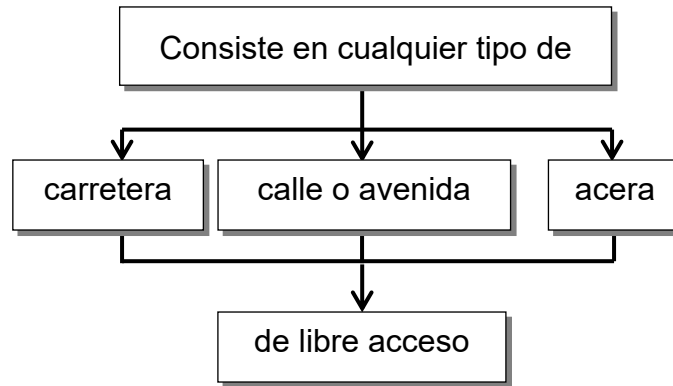
23) Al proceso de socialización y aprendizaje, encaminado al desarrollo de conocimientos y destrezas en el uso de las vías públicas, se le denomina

- A) educación vial.
- B) seguridad vial.
- C) desarrollo vial.
- D) sistema vial.

24) A la acción de efectuar movimientos de personas, vehículos, semovientes y cargas que permitan su traslado sobre una vía pública se le denomina

- A) tránsito.
- B) conductor.
- C) seguridad vial.
- D) medio de transporte.

25) Considere el siguiente esquema:



El esquema anterior se refiere al concepto de

- A) ruta.
- B) cultura vial.
- C) vía de tránsito.
- D) señal de tránsito.

26) La seguridad vial en Costa Rica es importante porque

- A) erradica las muertes violentas en el país.
- B) las personas pueden circular por donde deseen.
- C) promueve el uso adecuado de las vías públicas.
- D) agiliza los trámites para la obtención de la licencia.

27) La Ley de Tránsito de Costa Rica establece algunas prohibiciones a los ciclistas. Una de ellas consiste en

- A) circular en las vías públicas.
- B) sujetarse de otro vehículo en marcha.
- C) llevar colocado un casco de seguridad.
- D) circular por el lado derecho del carril de la vía.



- 28) De acuerdo con la Ley de Tránsito de Costa Rica, uno de los requisitos para obtener la licencia de conducir consiste en
- A) poseer un automóvil propio debidamente inscrito en el Registro de la Propiedad.
  - B) respetar las instrucciones de cualquier dispositivo oficial de control de tránsito.
  - C) tener una póliza de seguros para vehículos.
  - D) aprobar el curso básico de educación vial.
- 29) De acuerdo con la Ley de Tránsito de Costa Rica, una de las disposiciones que deben acatar los peatones en la vía pública consiste en
- A) transitar por el lado izquierdo, según la dirección de la marcha, en caso de no existir acera.
  - B) cruzar las calles en media cuadra o manzana, en las zonas urbanas.
  - C) caminar por la orilla derecha en las carreteras de acceso restringido.
  - D) circular detrás de un vehículo que tenga el motor encendido.
- 30) Cuando una persona, además del conductor, ocupa un lugar dentro de un vehículo, o cualquier otro medio de transporte automotor, recibe el nombre de
- A) guía.
  - B) escolta.
  - C) peatón.
  - D) pasajero.




31) Lea la siguiente información:

1. Cruzar la calle en las esquinas y en ángulo recto.
2. Subir y bajar del bus hasta que éste se haya estacionado.
3. Utilizar los vehículos particulares de transporte colectivo o «taxis piratas».
4. Ignorar la señal de alto indicada en el semáforo en ausencia de vehículos.

¿Cuáles números de los anteriores identifican dos conductas responsables dentro de la comunidad como parte de la seguridad vial?

- A) 1 y 2
- B) 1 y 3
- C) 2 y 4
- D) 3 y 4

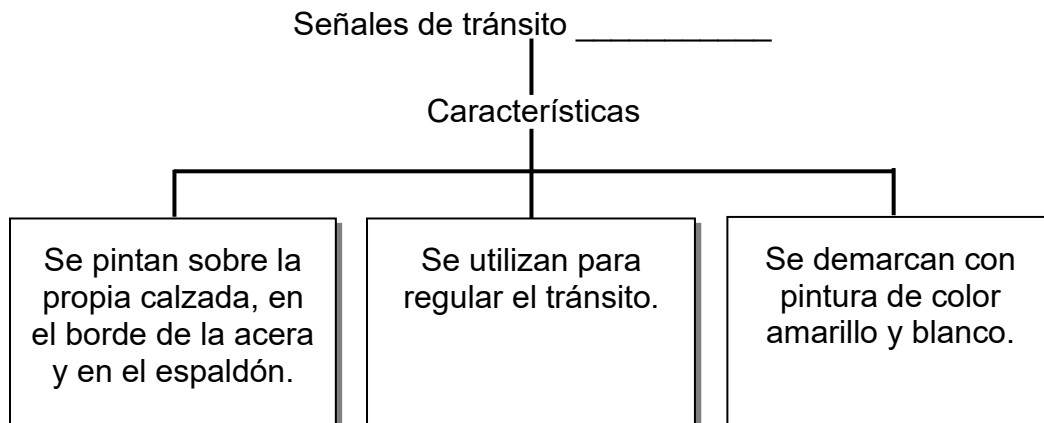
32) Lea la siguiente información:

	<ul style="list-style-type: none"><li>• Consisten en placas sujetas a postes.</li><li>• Su objetivo es facilitar el tránsito y hacerlo más seguro.</li><li>• Contienen un mensaje que la autoridad envía al conductor o peatón, mediante leyendas y símbolos.</li></ul>
---	---

La información anterior hace referencia a señales de tipo

- A) vertical.
- B) consecutiva.
- C) horizontales.
- D) de línea de barrera.

33) Lea el siguiente esquema:




¿Cuál opción completa correctamente el esquema anterior?

- A) de destinos y distancias
- B) horizontales
- C) vehiculares
- D) peatonales

34) Los conductores son los responsables de la mayoría de los accidentes de tránsito en Costa Rica. Una conducta responsable en el sistema vial es cuando se

- A) maneja a la defensiva.
- B) tiene exceso de confianza.
- C) conduce haciendo un esfuerzo físico excesivo.
- D) manifiesta cero tolerancia hacia los otros conductores.

35) Lea la siguiente información:

	<ul style="list-style-type: none"><li>• Se utilizan para advertir al usuario de la vía acerca de las obligaciones, limitaciones o prohibiciones que debe respetar.</li><li>• En la parte superior tienen un círculo rojo que indica restricción o limitación.</li></ul>
---	---

La información anterior se refiere al tipo de señal de tránsito llamadas de

- A) circulación.
- B) prevención.
- C) información.
- D) reglamentación.

36) Lea la siguiente información:

Representa el medio de transporte público más empleado y con mayor cantidad de rutas, durante su recorrido conecta a las comunidades con los principales centros urbanos del cantón o de la provincia, también las áreas rurales y cercanas con las fronteras terrestres.

¿Cuál es el medio de transporte vial comunitario descrito en la información anterior?

- A) El tranvía
- B) El autobús
- C) Las microbuses
- D) Las motocicletas



37) Lea los siguientes aspectos:

1. Los medios de transporte público y privado en Costa Rica han realizado adaptaciones en sus unidades para las personas con discapacidad.
2. Causan problemas de contaminación ambiental por la emisión de gases.
3. Deficiencia en la calidad del servicio de transporte público.
4. Paradas correctamente construidas y ubicadas.

¿Cuáles números de los anteriores reconocen dos aspectos negativos de los medios de transporte en Costa Rica?

- A) 1 y 2
- B) 1 y 4
- C) 2 y 3
- D) 3 y 4

38) Lea la siguiente definición:

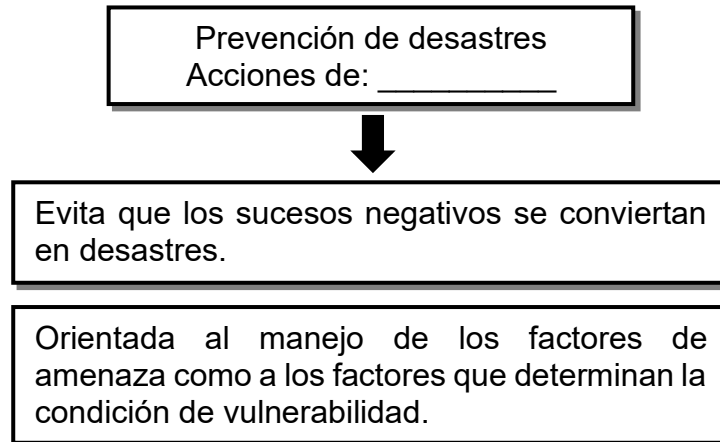
Probabilidad de que se presenten pérdidas, daños o consecuencias económicas, sociales o ambientales en un sitio particular y durante un período definido. Se obtiene al relacionar la amenaza con la vulnerabilidad de los elementos expuestos.

Adaptado de Antología Cívica 7°, CONED, p.131

La definición anterior permite reconocer el concepto denominado

- A) riesgo.
- B) desastre.
- C) amenaza.
- D) mitigación.


39) Lea el siguiente esquema:



¿A cuál concepto hace referencia la información del esquema anterior?

- A) Mitigación
- B) Prevención
- C) Rehabilitación
- D) Gestión del riesgo

40) Lea la siguiente información:

<ul style="list-style-type: none"><li>• Consiste en la manifestación superficial de la liberación de la energía interna del planeta.</li><li>• Es uno de los eventos naturales más frecuentes en el país, producto del choque de placas originando sismos o temblores.</li></ul>	
--	---

La información anterior hace referencia a un evento de origen

- A) tectónico.
- B) topográfico.
- C) morfológico.
- D) meteorológico.



41) Lea la siguiente información:

Se originan por un exceso de precipitaciones prolongadas o lluvias locales severas. Esto provoca que los ríos o las quebradas aumenten su caudal de manera desproporcionada y se desborden.

¿Cuál es el nombre de evento natural descrito en la información anterior?

- A) Sequía
- B) Huracán
- C) Maremoto
- D) Inundación

42) Los eventos provocados por el ser humano se clasifican como antrópicos o antropogénicos, en relación con estos, ¿cuál es un ejemplo de este tipo de evento?

- A) Explotación racional, armoniosa y sostenible de los recursos forestales
- B) Utilización desproporcionada de los rayos solares en la generación de fuentes energéticas
- C) Alteración de las formas del relieve producto de los deslizamientos y la presencia de fuertes vientos
- D) Contaminación del aire debido al incremento de gases provenientes de las industrias y vehículos

43) Lea la siguiente lista de eventos:

1. Terremotos

2. Derrumbes

3. Avalanchas

4. Deforestación

¿Cuál número de los anteriores ejemplifica un evento ocasionado por la intervención del hombre?

- A) 1
- B) 2
- C) 3
- D) 4



- 44) ¿Cuál es un factor de vulnerabilidad que contribuye en la manifestación de la sequía como uno de los eventos naturales presentes en el territorio costarricense?
- A) La explotación inadecuada de los recursos naturales y el uso irracional de los bosques.
  - B) Sobreprotección de los recursos y yacimientos acuíferos para la generación de energías renovables.
  - C) Las erupciones volcánicas que lanzan a la atmósfera cenizas y polvo que producen lluvia ácida.
  - D) La proliferación e incremento de gases generados por los automotores y el desarrollo de las actividades industriales.

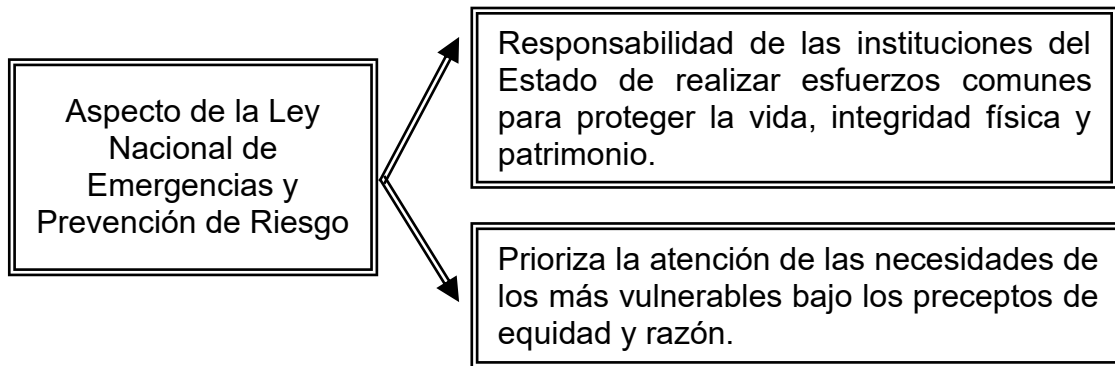
- 45) Lea la siguiente información:

En el territorio costarricense se encuentran espacios geográficos en donde persisten altos niveles de precipitaciones y de humedad, tal es el caso de algunos cantones ubicados en la provincia de Limón, en los cuales durante los últimos años ha existido propagación de enfermedades ocasionando problemas de salud en la población.

De acuerdo con la información anterior se identifican factores de vulnerabilidad que contribuyen en

- A) los procesos de desertificación de los suelos.
- B) el aumento de los gases de efecto invernadero.
- C) la saturación de los suelos por el exceso de lluvias.
- D) la manifestación de eventos antrópicos como el dengue.

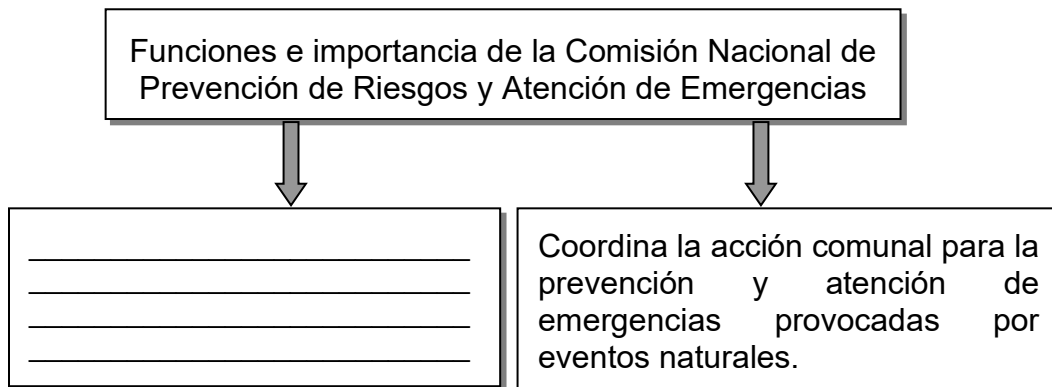
46) Lea el siguiente esquema:



¿Cuál principio establecido en la Ley Nacional de Emergencias y Prevención de Riesgo, se identifica en el esquema anterior?

- A) Solidaridad
- B) Coordinación
- C) Proporcionalidad
- D) Estado de necesidad y emergencia

47) Considere el siguiente esquema:



¿Cuál opción completa correctamente el esquema anterior?

- A) Establece las políticas y normativas orientadas a la protección y conservación de los recursos naturales.
- B) Realiza la promoción temática, por medio de programas permanentes de educación y divulgación.
- C) Promueve el desarrollo socioeconómico de los gobiernos locales y la erradicación de eventos originados por la acción humana.
- D) Restringe la participación ciudadana en la búsqueda de alternativas que permitan la resolución de problemáticas medioambientales.



- 48) ¿Cuál es un aspecto que la Ley Nacional de Emergencias y Prevención de Riesgo establece en el artículo 2°?
- A) Evita y limita la propagación de riesgos y amenazas relacionadas con eventos de origen natural.
  - B) Permite a los gobiernos locales declarar el estado de emergencia en el ámbito cantonal ante la manifestación de un evento sísmico.
  - C) Crea un marco jurídico ágil y eficaz que garantice la reducción de las causas del riesgo, así como el manejo de las situaciones de emergencia.
  - D) Aprueba todos los planes de emergencia que se deben aplicar en el territorio nacional ante la manifestación de eventos desarrollados por la intervención humana.
- 49) Lea la siguiente información:
- 1- Evalúa la magnitud de los daños ocurridos después de un desastre y presentan un informe detallado al presidente de la República.
  - 2- Asesora a las municipalidades sobre las condiciones de riesgo que las afectan y las orienta con miras a una política efectiva sobre el uso de la tierra.
  - 3- Ejecuta e implementa los planes reguladores que en materia de prevención, aplicación y mitigación haya diseñado cada uno de los gobiernos locales.
  - 4- Tiene la autoridad de declarar en el país el Estado de emergencia nacional ante la amenaza de eventos naturales, sin la necesidad de la aprobación del Poder Ejecutivo.
- ¿Cuáles números de los anteriores identifican dos funciones que le corresponden a la Comisión Nacional de Prevención de Riesgos y Atención de Emergencias?
- A) 1 y 2
  - B) 1 y 3
  - C) 2 y 4
  - D) 3 y 4



- 50) ¿Cuál es un factor de vulnerabilidad que contribuye en el desarrollo de un incendio en la comunidad?
- A) Uso excesivo y desmedido de los combustibles fósiles y sus derivados
  - B) Caseríos y proyectos de urbanización construidos en territorios inestables
  - C) Saturación del alcantarillado y desagües con depósitos de desechos sólidos
  - D) Edificios antiguos carentes de mantenimiento y ausencia de hidrantes en la comunidad

- 51) Lea la siguiente información:

Los cantones de Escazú, Santa Ana, Alajuelita, Desamparados y Aserrí fueron objeto de estudio por geólogos, en un análisis de susceptibilidad realizado para la Comisión Nacional de Prevención de Riesgos y Atención de Emergencias, en el que se modelaron diversos escenarios con los que las comunidades podrían verse afectadas por eventuales desprendimientos de tierra.

<https://www.ucr.ac.cr/noticias/2016/10/13/san-jose>

De acuerdo con la información anterior, ¿cuál es el fenómeno peligroso que puede afectar las comunidades mencionadas?

- A) Inundaciones
- B) Deslizamientos
- C) Tormentas tropicales
- D) Erupciones volcánicas

52) Considere el siguiente esquema:

Gestión del riesgo en las instituciones educativas



Acciones que se deben llevar a la práctica

- Incluir en los planes y los programas principios y valores orientados a la creación de una cultura de prevención.

- \_\_\_\_\_  
\_\_\_\_\_

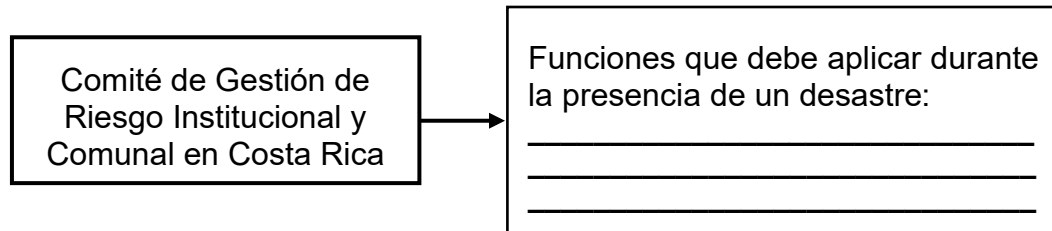
¿Cuál opción completa correctamente el esquema anterior?

- A) Identificar y señalar las zonas o rutas de evacuación y las salidas de emergencias que se utilizan.
- B) Establecer que obligatoriamente cada persona estudiante porte un botiquín de primeros auxilios.
- C) Promover la realización de cursos o talleres con el objetivo de que se puedan eliminar todos los eventos de origen natural.
- D) Desarrollar simulacros todos los días, pues a través de ellos se logra minimizar los factores de vulnerabilidad asociados con los eventos antrópicos.

53) Una de las acciones para la prevención de riesgo y mitigación que se deben aplicar en los centros educativos se relaciona con

- A) la aprobación de los planes reguladores que deben desarrollar los gobiernos locales.
- B) la divulgación de situaciones de riesgos asociadas con eventos provocados por la naturaleza, específicamente acerca de los temblores o sismos.
- C) el desarrollo de campañas de difusión para que se reconozcan las situaciones de amenaza y vulnerabilidad existentes para la comunidad educativa.
- D) el desarrollo de una cultura de desinformación, tendiente a limitar la capacidad de toma de decisiones ante la manifestación de un fenómeno de origen antrópico.

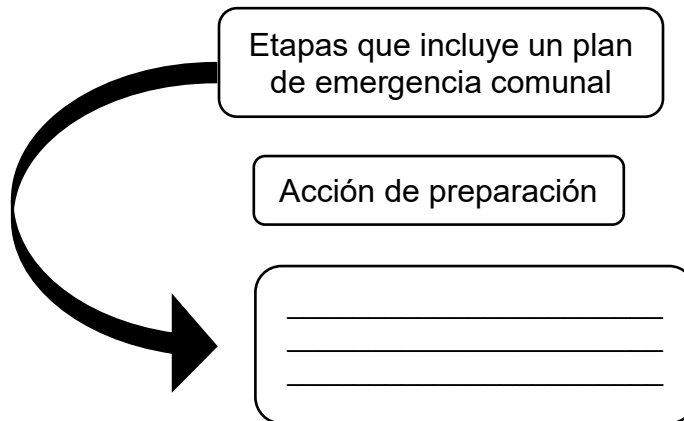
54) Considere el siguiente esquema:



¿Cuál opción completa correctamente el esquema anterior?

- A) Evaluar los daños y remitir un informe del mismo a las autoridades correspondientes
- B) Diseñar un programa o plan de emergencia ante eventos de índole natural o provocado por la acción del ser humano.
- C) Organizar equipos de trabajo, brigadas de primeros auxilios y conformar los comités de apoyo para reducir la gestión del riesgo.
- D) Preparar a las personas y comunidad sobre las acciones necesarias que le permitan hacer frente a una situación de emergencia.

55) Considere el siguiente esquema relacionado con el Comité Comunal de gestión de riesgo:



¿Cuál opción completa correctamente el esquema anterior?

- A) Colabora en las tareas de edificación y remoción de escombros.
- B) Diseña un ruta de evacuación de la población hacia zonas seguras.
- C) Refuerza las estructuras de las viviendas o edificios en malas condiciones.
- D) Gestiona la restauración de los servicios básicos, tales como agua potable y energía.



**SOLUCIONARIO  
EDUCACIÓN CÍVICA—7° año**

1	B	21	A	41	D
2	D	22	B	42	D
3	A	23	A	43	D
4	C	24	A	44	A
5	B	25	C	45	C
6	B	26	C	46	B
7	D	27	B	47	B
8	C	28	D	48	C
9	D	29	A	49	A
10	A	30	D	50	D
11	B	31	A	51	B
12	B	32	A	52	A
13	C	33	B	53	D
14	B	34	A	54	C
15	A	35	D	55	B
16	D	36	B		
17	D	37	C		
18	B	38	A		
19	B	39	B		
20	A	40	A		